



نام درس: پیام های آسمان
 نام دبیر: آقای ویسه
 محدوده آزمون: دروس ۱ تا آخر ۴
 زمان: ۶۰ دقیقه

آزمون میان نوبت اول
 سال تحصیلی ۴۰۲-۴۰۱
 تاریخ: ۱۴۰۱/۰۹ / ۰۸
 پایه: هشتم

نام:
 نام خانوادگی:
 کلاس:

ردیف	سوال	بارم
الف	<p>تستی:</p> <p>۱- جهنم را چه کسی به وجود آورده است؟</p> <p>۱- فرشتگان مأمور الهی <input type="radio"/> ۲- خداوند <input type="radio"/> ۳- شیاطین و دوستان جهنمی <input type="radio"/> ۴- دوزخیان <input type="radio"/></p> <p>۲- با دقت در نظم شگفت انگیز جهان به چه نتیجه ای می توان رسید؟</p> <p>۱- دانا و مهربان بودن خداوند <input type="radio"/> ۲- آمرزنده بودن خداوند <input type="radio"/></p> <p>۳- محبت خداوند به بندگان <input type="radio"/> ۴- دانا و توانا بودن خداوند <input type="radio"/></p> <p>۳- آیه مبارکه « قل یا عبادى الذین اسرفوا علی انفسهم لا تقنطوا ... » درباره چه موضوعی است؟</p> <p>۱- پرده پوشی خداوند <input type="radio"/> ۲- آمرزنده بودن خداوند <input type="radio"/> ۳- انسان های الهی <input type="radio"/> ۴- نعمت های بهشت <input type="radio"/></p> <p>۴- برنامه ای که حضرت محمد (ص) برای هدایت مردم طراحی کرده بود که حتی سعادت انسان های پس از خود را نیز تضمین می کرد چه بود؟</p> <p>۱- تعلیم قرآن به مردم <input type="radio"/> ۲- تربیت معلمان قرآن <input type="radio"/> ۳- آوردن دین اسلام <input type="radio"/> ۴- رستگار کردن انسان در دنیا <input type="radio"/></p>	۲
ب	<p>صحیح یا غلط را با (ص یا غ) مشخص کنید:</p> <p>۵- برعکس بهشتیان ، جهنمیان نمی توانند با دوستان خود گفتگو کنند . ()</p> <p>۶- حضرت علی (ع) بدون آنکه پیامبر (ص) از ایشان بخواهند که گفته هایشان را بنویسند ، می نوشتند تا برای امامان بعدی نیز باقی بماند . ()</p> <p>۷- مالک اشتر وقتی توسط آن مرد ، مورد تمسخر واقع شد ، به مسجد رفت تا دعا کند که بتواند خشم خود را کنترل نماید . ()</p> <p>۸- هیچ آیه ای از قرآن نبود ، مگر آنکه پیامبر تاویل آن را به حضرت علی (ع) می آموخت . ()</p>	۲
ج	<p>پاسخ کوتاه دهید:</p> <p>۹- چه چیزی شیرینی نعمت های بهشت را بیشتر می کند؟</p> <p>۱۰- دانا بودن و هدف دار بودن خداوند از خلقت، کدام صفت از پروردگار را نشان می دهد؟</p> <p>۱۱- در آیه مبارکه ، منظور از کلمه ای که در زیر آن خط کشیده شده است چیست ؟ « ثم لتسئلنَّ یومئذٍ عن النعیم »</p> <p>۱۲- موضوع این آیه نورانی چیست ؟ « لهم ما یشئون فیها و لدینا مزید »</p>	۲
د	<p>جاهای خالی را با کلمه مناسب پر کنید:</p> <p>۱۳- امام علی (ع) : از خلقت این انسان باید تعجب کرد که با تکه ای چربی ، با پاره ای گوشت و با چند استخوان می شود .</p> <p>۱۴- در بهشت رود هایی از و و آب زلال جریان دارد .</p> <p>۱۵- آتش از هر سو زبانه می کشد ، ستمکاران مغرور مانند آتش می گیرند و می سوزند . اینجا آن هاست ، جهنم .</p>	۱ ۱ ۱

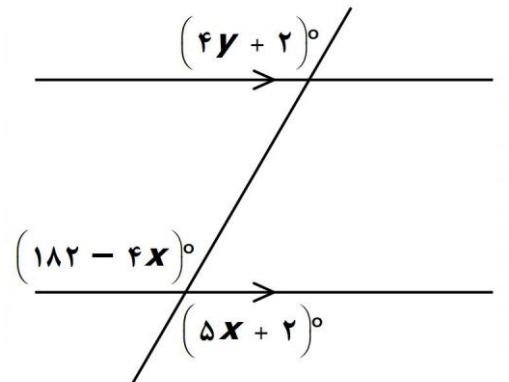
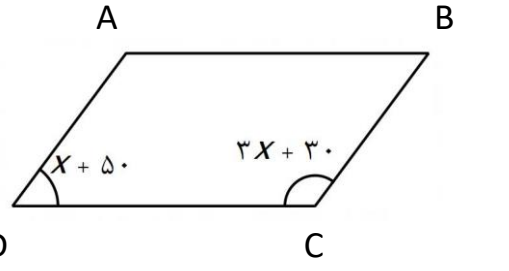
۱/۵	<p>ه پاسخ کامل دهید :</p> <p>۱۶- مشاهده پیامبر (ص) درباره ساختن قصر های بهشتی را خلاصه بنویسید .</p>
۱	<p>۱۷- نعمت های بهشت نتیجه چه چیز هایی است ؟</p>
۱/۵	<p>۱۸- وقتی جهنمیان به فرصت های از دست رفته خود فکر می کنند ، به خود چه می گویند ؟</p>
۲	<p>۱۹- حدیث ثقلین را به طور کامل و دقیق بنویسید .</p>
۱/۵	<p>۲۰- با توجه به آیات داده شده به سوالات مربوطه پاسخ دهید .</p> <p>« اِنَّهٗ لقرآن کریم فی کتاب مکنون لا یمسه الا المطهرون »</p> <p>« اَمَّا یرید الله لیذهب عنکم الرجس اهل البیت و یطهرکم تطهیرا »</p> <p>الف) طبق آیه اول تنها کسانی که به معارف و علوم بلند مرتبه قرآن دست می یابند چه کسانی هستند ؟</p> <p>ب) طبق آیه دوم خداوند درباره اهل بیت علیهم السلام چه اراده ای کرده است ؟</p> <p>ج) از کنار هم قرار دادن این دو آیه چه پیام و نتیجه ای دریافت می گردد ؟</p>
۰/۵	<p>و اصطلاحات زیر را تعریف کنید :</p> <p>۲۱- غفّار :</p> <p>۲۲- انسان های الهی :</p>
۲	<p>ز آیه حفظی :</p> <p>۲۳- آیه ای که خداوند به مؤمنان دستور داده که عفو و گذشت کنند را به عربی و ترجمه فارسی بنویسید .</p>

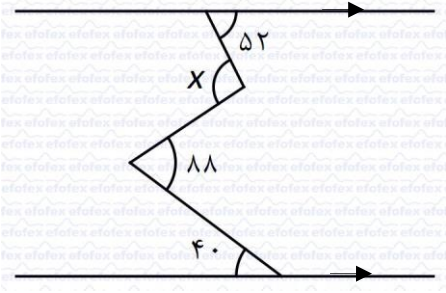


بارم	سوال	ردیف
۱/۵	<p>درستی یا نادرستی عبارات های زیر را مشخص کنید .</p> <p>الف) بزرگترین عدد صحیح منفی دو رقمی ، عدد ۹۹- است . <input type="radio"/> درست <input type="radio"/> نادرست</p> <p>ب) در غربال اعداد یک تا ۱۰۰ عدد ۷۵ در مضارب ۵ خط می خورد . <input type="radio"/> درست <input type="radio"/> نادرست</p> <p>ج) متوازی الاضلاعی که زاویه قائمه داشته باشد ، مستطیل است . <input type="radio"/> درست <input type="radio"/> نادرست</p>	۱
۱/۵	<p>جاهای خالی را با عبارات یا اعداد مناسب پر کنید .</p> <p>الف) معکوس عدد اعشاری ۴/۰- عدد است .</p> <p>ب) در غربال ۱ تا ۲۰۰ باید تا مضارب عدد را خط بزنیم .</p> <p>ج) چهار ضلعی که فقط دو ضلع موازی دارد نام دارد .</p>	۲
۱/۵	<p>به سوالات چهار گزینه ای زیر پاسخ دهید .</p> <p>الف) حاصل عبارت M کدام است ؟</p> $M = 2 - 4 + 6 - 8 + \dots + 198 - 200$ <p>(۱) ۹۸ (۲) -۹۸ (۳) ۱۰۰ (۴) -۱۰۰</p> <p>ب) در روش غربال برای تعیین اعداد اول کوچکتر از ۷۳۰ کدام عدد زودتر خط می خورد ؟</p> <p>(۱) ۵۲۹ (۲) ۶۶۷ (۳) ۷۲۶ (۴) ۷۱۳</p> <p>ج) هر زاویه داخلی یک شش ضلعی منتظم چند درجه است ؟</p> <p>(۱) ۱۴۵ (۲) ۱۲۰ (۳) ۹۵ (۴) ۶۰</p>	۳
۴/۵	<p>حاصل هر یک از عبارات های زیر را بدست آورید .</p> <p>الف) $(-6) - (-6) \times (-3) + (-3) \times (-3) + (-5) =$</p> <p>ب) $\frac{(-36) \times 42}{(-28) \times 27}$</p>	۴

$\begin{array}{r} 1 - \frac{1}{4} \\ 1 + \frac{1}{4} \\ \hline \text{ج) } \frac{2}{2} - \frac{2}{4} \\ \frac{2}{4} \end{array}$	
$\frac{2}{1 \times 3} + \frac{2}{3 \times 5} + \frac{2}{5 \times 7} + \dots + \frac{2}{27 \times 29} =$	<p>۵ حاصل عبارت زیر را به دست آورید .</p>
<p>۱</p>	<p>۶ مجموع دو عدد اول ۸۵ است . آن دو عدد را به دست آورید .</p>
<p>۱</p>	<p>۷ عوامل اول عدد ۹۰۰ چه اعدادی هستند ؟</p>
<p>۲</p>	<p>۸ اعداد طبیعی از عدد یک تا عدد ۶۰ را بنویسید و به کمک غربال ، اعداد اول از یک تا ۶۰ را پیدا کنید .</p>

۱	<p>در روش غربال اعداد یک تا ۱۰۰، پنجاه و دومین عددی که خط می خورد چند است؟ (خود اعداد یک و ۱۰۰ را هم در نظر بگیرید.)</p>
---	--

۲	<p>در شکل های زیر با تشکیل معادله، مقادیر مجهول و اندازه زاویه ها را پیدا کنید. (شکل ABCD متوازی الاضلاع است)</p> <p>الف)</p>  <p>ب)</p> 
---	--

۱/۵	<p>در شکل زیر مقدار x را بیابید.</p> 
-----	--





نام درس : عربی
نام دبیر: آقای تاجداری
محدوده آزمون : درس ۱ تا درس ۴
زمان : ۶۰ دقیقه

آزمون میان نوبت اول

سال تحصیلی ۴۰۲-۴۰۱
تاریخ: ۳۰ / ۰۸ / ۱۴۰۱
پایه : هشتم

نام:
نام خانوادگی:
کلاس:

ردیف	سوال	بارم
۱	با توجه به تصویر کلمه مناسب بنویسید .    	۱
۲	کلمات مشخص شده را ترجمه کنید . الف) هو يَقُولُ فِي نَفْسِهِ . ب) تِلْكَ الْمَرْأَةُ تَنْفَعُ أُسْرَتَهَا . ج) لِأَنِّي أَحِبُّ الْأَخْرِيْنَ . د) لَا بَأْسَ ، الْمُصْعَدُ موجودٌ .	۱
۳	مترادف و متضاد را دو به دو کنار یکدیگر قرار دهید . یَمِين - اب - حَسَن - رخيصة - يَسَار - والدة - سوء - غالية () () () ()	۱
۴	به موارد خواسته شده بپريد . هذه (مثنی) ← طعام (جمع ناسام) ← هی (جمع) ← موظفات (مفرد) ←	۱
۵	کلمه ناهماهنگ را در هر ردیف مشخص کنید . الف) متی - گیف - حتی - ماذا ب) خاف - سمعت - اسمع - امرت ج) عيون - بلاد - مهن - أفضل د) رياضة - مدرسة - بائعة - ممرضة	۱
۶	افعال زیر را ترجمه نمایيد . أَفْحَصُ : سَتَحْصِدِينَ : ما سَمَحْتُ : سَأَلْنَا :	۲
۷	به عربی پاسخ کوتاه دهید . الف) مَتَى تَذْهَبُ إِلَى الْمَدْرَسَةِ ؟ ب) مِنْ أَيْنَ أَنْتَ ؟ ج) فِي أَيِّ صَفِّ أَنْتَ ؟ د) مَا اسْمُ صَدِيقِكَ ؟	۱

۱	کلمات زیر را در جای مناسب در جدول قرار دهید . أصوات - عُرابان - واقفات - فائزین <table border="1" data-bbox="151 280 1436 470"> <tr> <td data-bbox="151 280 470 369">جمع مکسر</td> <td data-bbox="470 280 790 369">جمع مونث</td> <td data-bbox="790 280 1109 369">جمع مذکر</td> <td data-bbox="1109 280 1436 369">مثنی</td> </tr> <tr> <td data-bbox="151 369 470 470"></td> <td data-bbox="470 369 790 470"></td> <td data-bbox="790 369 1109 470"></td> <td data-bbox="1109 369 1436 470"></td> </tr> </table>	جمع مکسر	جمع مونث	جمع مذکر	مثنی				
جمع مکسر	جمع مونث	جمع مذکر	مثنی						
۶	۹ جملات زیر را به فارسی روان ترجمه نمایید . الف) الْأَسْعَارُ مُحَدَّدَةٌ مِنْ قِبَلِ الْمُنْظَمَةِ . ب) عَلَيْكَ بِالرَّجُوعِ . أَتَفْهَمِينَ ؟ ج) لِمَاذَا سَتَصِيرُ بَائِعًا ؟ لَا أَدْرِي . د) جِئْتُ مَعَ أُسْرَتِي بِالْحَافِلَةِ . و) أَنْصَحُكَ أَنْ تَذْهَبَ عِنْدَ الْمَرْضَى . ی) مَنْ كُنْتُمْ عَلِمًا فَكَأَنَّهُ جَاهِلٌ . ل) نَعِيشُ مَعَ الْإِنْسَانِ وَ نَخْدُمُهُ . ز) عِنْدَكُمْ عُرْفَةٌ ذَاتُ ثَلَاثَةِ أَسْرَةٍ .								
۳	۱۰ گزینه مناسب را انتخاب کنید . الف) إِلَى مَدِينَتِي فِي الْإِسْبُوعِ الْقَادِمِ . ب) أ مِنْ الصَّفِّ يَا صَدِيقَتِي ؟ ج) إِخْوَتِي اللَّهُ فِي الْمَسْجِدِ . د) عَدَدُ الشُّهُورِ فِي السَّنَةِ : و) يَا مَرْمُوزَةَ ، أ فِي الْمُسْتَوْصِفِ أَمْسٍ ؟ ی) كَيْفَ أَيُّهَا الْخَبَازَانُ ؟ رَجَعْنَا بِالسَّيَّارَةِ الْأُجْرَةَ . رَجَعْتُ ○ سَارِعُ ○ دَهَبْنَا ○ تَخْرُجُ ○ أَخْرَجُ ○ تَخْرُجِينَ ○ شَكَرُوا ○ شَكَرْنَا ○ شَكَرْتُنَّ ○ أَرْبَعَةٌ ○ سَبْعَةٌ ○ اثْنَا عَشَرَ ○ عَمِلْتُ ○ تَعْمَلِينَ ○ عَمِلْتِ ○ رَجَعَا ○ رَجَعْتُمَا ○ رَجَعْتُمْ ○								
۱	۱۱ در جملات زیر افعال ماضی و مضارع را مشخص کنید . الف) مَا دَخَلْتُ الصَّفَّ وَ أَنْتِ تَدَخِلِينَ الصَّفَّ . ب) هُنَّ سَمِعْنَ كَلَامِي وَ أَنَا أَذْهَبُ إِلَى الْبَيْتِ .								
۱	۱۲ کلمه پرسشی مناسب در جای خالی قرار دهید . الف) هَذِهِ السَّيَّارَةُ ؟ لِأَبِي . ب) فِي الْحَقِيقَةِ ؟ الْقَلَمُ .								



نام درس: علوم
نام دبیر: آقای نقدیانی
محدوده آزمون:
زمان: ۷۰ دقیقه

آزمون میان نوبت اول

سال تحصیلی ۴۰۲-۴۰۱
تاریخ: ۱۴۰۱/۰۹/۱۲
پایه: هشتم

نام:
نام خانوادگی:
کلاس:

بارم	سوال	ردیف
۳	<p>جاهای خالی را با کلمات مناسب کامل کنید .</p> <p>۱- موادی که ذرات تشکیل دهنده آن ها از یک نوع باشند ، ماده نام دارند .</p> <p>۲- بخشی از محلول که معمولاً جزء بیشتری از محلول را تشکیل می دهد نام دارد .</p> <p>۳- موادی که از دو عنصر ئیدروژن و کربن ساخته شده اند نام دارند .</p> <p>۴- موادی که سرعت واکنش شیمیایی را افزایش می دهند و در پایان بدون تغییر باقی می مانند نام دارند.</p> <p>۵- مدل منظومه شمسی توسط دانشمندی به نام ارائه شده است .</p> <p>۶- در یک اتم خنثی ، عدد اتمی هم نمایانگر تعداد پروتون ها و هم نمایانگر تعداد است .</p> <p>۷- اعمالی مانند صحبت کردن ، راه رفتن و تفکر تحت واپایش می باشند .</p> <p>۸- اجتماع تار های عصبی در کنار یکدیگر را تشکیل می دهند .</p> <p>۹- به یاخته های عصبی نیز می گویند .</p> <p>۱۰- در لایه داخلی چشم دو نوع یاخته گیرنده نوری استوانه ای و قرار دارد .</p> <p>۱۱- مرکز حس بینایی در قسمت قشر مخ قرار دارد .</p> <p>۱۲- مهمترین بخش گوش ، گوش است .</p>	الف
۳	<p>درستی و یا نادرستی جمله های زیر را تعیین کنید .</p> <p>۱- در روش سرریز کردن باید اجزاء مخلوط ناهمگن دارای چگالی متفاوتی باشند . <input type="checkbox"/> درست <input type="checkbox"/> نادرست</p> <p>۲- در آب داغ قند بیشتر و اکسیژن کمتری می توان حل نمود . <input type="checkbox"/> درست <input type="checkbox"/> نادرست</p> <p>۳- تغییرات شیمیایی را می توان به تغییر در رابطه میان ذره های سازنده یک ماده به حساب آورد. درست <input type="checkbox"/> نادرست <input type="checkbox"/></p> <p>۴- با استفاده از یک لیموترش و دو تکه فلز آهن می توان یک باتری ساخت . <input type="checkbox"/> درست <input type="checkbox"/> نادرست</p> <p>۵- از مجموع پروتون ها و الکترون های یک اتم عدد جرمی حاصل می شود . <input type="checkbox"/> درست <input type="checkbox"/> نادرست</p> <p>۶- در یون مثبت تعداد الکترون ها بیشتر از پروتون هاست . <input type="checkbox"/> درست <input type="checkbox"/> نادرست</p> <p>۷- مچچه دو وظیفه غیر ارادی هماهنگ کردن کار عضلات و تنظیم فشار خون را بر عهده دارد . درست <input type="checkbox"/> نادرست <input type="checkbox"/></p> <p>۸- نخاع رابط بین مغز و بخش محیطی دستگاه عصبی است . <input type="checkbox"/> درست <input type="checkbox"/> نادرست</p> <p>۹- در یاخته های عصبی جهت حرکت پیام از آسه به دارینه است . <input type="checkbox"/> درست <input type="checkbox"/> نادرست</p> <p>۱۰- وقتی بخار مولکول های بو دار ، روی گیرنده های بویایی قرار می گیرند به پیام عصبی تبدیل می شوند. <input type="checkbox"/> درست <input type="checkbox"/> نادرست</p> <p>۱۱- یک نوع گیرنده در زیر پوست قادر به دریافت حس گرما ، سرما ، فشار و سوزش است . <input type="checkbox"/> درست <input type="checkbox"/> نادرست</p> <p>۱۲- تا مولکول های مواد در بزاق حل نشوند ، گیرنده ها قادر به تشخیص آن ها نیستند . <input type="checkbox"/> درست <input type="checkbox"/> نادرست</p>	ب

در مقابل پاسخ صحیح علامت ضربدر بگذارید .

۱- کدامیک از موارد زیر سرعت حل شدن شکر در آب را افزایش نمی دهد؟

- الف) افزایش فشار (ب) هم زدن (ج) افزایش سطح تماس (د) افزایش دما

۲- کدام محلول اسیدی نیست؟

- الف) محلول A) $\text{PH}=2$ (ب) محلول B) $\text{PH}=0$

- ج) محلول C) $\text{PH}=5$ (د) محلول D) $\text{PH}=12$

۳- کدامیک از تغییرات زیر شیمیایی گرماده است؟

- الف) پختن غذا (ب) میعان بخار آب

- ج) سوختن چوب (د) حل شدن قرص جوشان در آب

۴- در کدامیک از تغییرات زیر ساختار ذره ای ماده تغییر می کند؟

- الف) سرخ شدن سیم بخاری برقی در اثر عبور جریان برق (ب) مغناطیسی شدن یک قطعه آهن

- ج) سیاه شدن سطح سیب زمینی پوست کنده شده (د) سرخ شدن آهن بر اثر حرارت

۵- جرم پروتون در مقایسه با جرم نوترون و جرم الکترون از جرم نوترون و پروتون است .

اگر تعداد الکترون های یک اتم زیاد باشد تاثیر زیادی در جرم آن اتم

- الف) اندکی کمتر - خیلی کمتر - نخواهد داشت (ب) مساوی - خیلی کمتر - خواهد داشت

- ج) مساوی - خیلی کمتر - نخواهد داشت (د) اندکی بیشتر - خیلی کمتر - نخواهد داشت

۶- یون ${}_{35}^{79}\text{Br}^{3-}$ به ترتیب از راست به چپ چند الکترون و چند پروتون دارد؟

- الف) $79 - 35$ (ب) $38 - 35$ (ج) $79 - 35$ (د) $35 - 38$

۷- شناخت فردی که قبلاً دیده ایم ، تنظیم کار قلب و حرفه ای شدن یک ژیمناستیک کار ، هر یک تحت واپایش کدام

قسمت دستگاه عصبی است؟

- الف) مخچه - مخچه - بصل النخاع (ب) مخ - مخ - مخچه

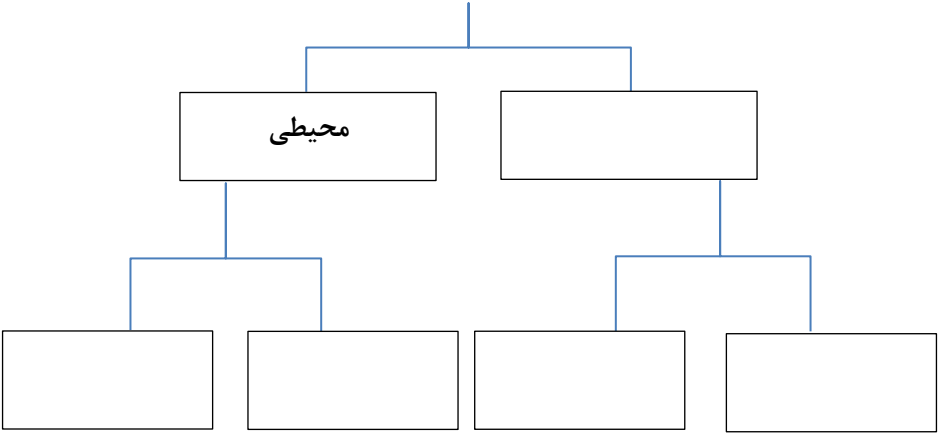
- ج) مخچه - بصل النخاع - مخ (د) مخ - بصل النخاع - مخچه

۸- کدامیک از گزینه های زیر از وظایف استخوان بندی محسوب نمی شود؟

- الف) سبب می شود که سریعتر و بهتر حرکت کنیم (ب) سبب محافظت از دستگاه گوارش می شود

- ج) محل ذخیره مواد معدنی مثل کلسیم است (د) محل ساخته شدن گلبول های خون است

۱	<p>(د) به سوالات زیر پاسخ دهید .</p> <p>قابلیت حل شدن شکر و نمک در ۱۰۰ گرم آب 20°C به ترتیب ۲۰۸ و ۳۸ گرم است . یک میلی لیتر محلول سیر شده کدامیک سبک تر است ؟ چرا ؟</p>	۱
۱	<p>در الکل های ۳۰٪ ، ۵۰٪ ، ۷۰٪ ، ۹۰٪ حلال و حل شونده را معین کنید .</p>	۲
۱	<p>آزمایشی طراحی کنید که با انجام یک تغییر شیمیایی بتوان کاری انجام داد .</p>	۳
۱	<p>نوع هر یک از تغییرات زیر را معین کنید .</p> <p>(الف) ترش شدن ماست ()</p> <p>(ب) حل شدن شکر در آب ()</p> <p>(ج) هضم شدن غذا ()</p> <p>(د) جمع شدن آب روی سطح خارجی یک لیوان پر از یخ ()</p>	۴
۱	<p>ساختار اتم ${}^4_2\text{He}$ را بر اساس مدل بور رسم نمائید .</p>	۵

۱	<p>با در نظر گرفتن مشخصات عنصر کربن $^{12}_6\text{C}$ جدول زیر را کامل کنید .</p> <table border="1" data-bbox="156 282 1436 443"> <thead> <tr> <th>نام عنصر</th> <th>عدد اتمی</th> <th>تعداد پروتون</th> <th>تعداد الکترون</th> <th>عدد جرمی</th> </tr> </thead> <tbody> <tr> <td>$^{12}_6\text{C}$</td> <td></td> <td></td> <td></td> <td></td> </tr> </tbody> </table>	نام عنصر	عدد اتمی	تعداد پروتون	تعداد الکترون	عدد جرمی	$^{12}_6\text{C}$				
نام عنصر	عدد اتمی	تعداد پروتون	تعداد الکترون	عدد جرمی							
$^{12}_6\text{C}$											
۱/۲۵	<p>نمودار مفهومی زیر را کامل کنید .</p> <p style="text-align: center;">دستگاه عصبی</p> 										
۰/۲۵	<p>وظایف دستگاه عصبی را در ۳ بند به طور خلاصه بنویسید .</p>										
۱	<p>چرا وقتی سرما می خوریم مزه غذا ها را هم به خوبی حس نمی کنیم ؟</p>										
۱	<p>اصطلاحات زیر را تعریف کنید .</p> <p>الف) مفصل :</p> <p>ب) رباط :</p>										



نام درس: فارسی
 نام دبیر: آقای خوردچشم
 محدوده آزمون: درس ۱ تا پایان درس ۵
 زمان: ۶۰ دقیقه

آزمون میان نوبت اول

سال تحصیلی ۴۰۲-۴۰۱
 تاریخ: ۱۴۰۱/۰۹/۰۲
 پایه: هشتم

نام:
 نام خانوادگی:
 کلاس:

بارم	سوال	ردیف
۱	معنی ابیات و عبارات زیر را به نثر روان بنویسید . ۱- عقل ها ، حیران شود کز خاک تاریک نژند چون برآید این همه گل های نغز کامکار ؟	الف
۱	۲- پایه های برجش از عاج و بلور بر سر تختی نشسته با غرور	
۱	۳- گفت : آری خانه او بی ریاست فرش هایش از گلیم و بورباست	
۱	۴- گر نه امید و بیم راحت و رنج پای درویش بر فلک بودی	
۱	۵- از آن دانا دلان خویشان شناس که اکنون ایران را به گذشته پر فروغ آن می پیوندند .	
۱	۶- چون نپرسی کاین تماثل از کجا آمد پدید ؟ چون نجویی کاین تصاویر از کجا شد آشکار ؟	
۲	معنی لغات زیر را بنویسید . ۷- دفع : ۸- صدیقان : ۹- خشت : ۱۰- طنین : ۱۱- نمی گنجد : ۱۲- یال : ۱۳- خلاق : ۱۴- رؤیایی :	ب
۱	درک متن (۳ نمره) ۱۵- مفهوم هر یک از کنایه های زیر را بنویسید . الف) بر دوش نهادن : ب) پشت و پناه :	پ
۱	۱۶- با توجه به بیت زیر به سوالات پاسخ دهید . کیست آن صورتگر ماهر که بی تقلید غیر الف) صورتگر به چه معناست ؟ ب) منظور از «صفحه هستی» چیست ؟ پ) این بیت چند جمله دارد ؟	
۱	۱۷- درست یا نادرست بودن عبارت های زیر را مشخص کنید . الف) «همت خواستن» به معنی «دعای خیر خواستن» است . درست نادرست ب) در مصراع «هیچ کس را در حضورش راه نیست» کنایه وجود ندارد . درست نادرست	

نام درس: مطالعات اجتماعی
 نام دبیر: آقای لطیفی پور
 محدوده آزمون: درس ۱ تا آخر ۶
 زمان: ۶۰ دقیقه

آزمون میان نوبت اول

سال تحصیلی ۴۰۲-۴۰۱
 تاریخ: ۱۴۰۱/۰۹/۰۶
 پایه: هشتم

نام:

نام خانوادگی:

کلاس:



بارم	سوال	ردیف
۳	<p>سوالات چهار جوابی</p> <p>(۱) حکومت ایران از چه نوعی است؟</p> <p>۱- جمهوری اسلامی <input type="checkbox"/> ۲- جمهوری فلق <input type="checkbox"/> ۳- ایالات متمدنه <input type="checkbox"/> ۴- ایالات پادشاهی <input type="checkbox"/></p> <p>(۲) منظور از شهروندان چه کسانی هستند؟</p> <p>۱- روستایی ها <input type="checkbox"/> ۲- اتباع <input type="checkbox"/> ۳- عشایر <input type="checkbox"/> ۴- مهاجران <input type="checkbox"/></p> <p>(۳) نوجوانی چه گروه سنی را تشکیل می دهند؟</p> <p>۱- ۱۰ تا ۱۸ سال <input type="checkbox"/> ۲- ۱۲ تا ۲۲ سال <input type="checkbox"/> ۳- ۱۲ تا ۱۸ سال <input type="checkbox"/> ۴- ۱۰ تا ۲۲ سال <input type="checkbox"/></p> <p>(۴) کدام مورد جزء کسانی که از نوجوانان در برابر آسیب ها حمایت می کنند نیست؟</p> <p>۱- خود فرد <input type="checkbox"/> ۲- خانواده <input type="checkbox"/> ۳- مدرسه <input type="checkbox"/> ۴- نیروهای انتظامی <input type="checkbox"/></p> <p>(۵) این سخن از کیست؟</p> <p>«کسی که مشکلی از مومنی رفع کند مانند کسی است که تمام عمرش را به عبادت سپری کرده است.»</p> <p>۱- پیامبر اکرم (ص) <input type="checkbox"/> ۲- حضرت علی (ع) <input type="checkbox"/> ۳- امام مسن (ع) <input type="checkbox"/> ۴- امام مسین (ع) <input type="checkbox"/></p> <p>(۶) سازمان ها و موسسات خیریه برای فعالیت باید از چه مرجعی مجوز بگیرند؟</p> <p>۱- وزارت ارشاد <input type="checkbox"/> ۲- وزارت کشور <input type="checkbox"/> ۳- وزارت اوقاف <input type="checkbox"/> ۴- وزارت تبلیغات <input type="checkbox"/></p>	الف
۳	<p>سوالات صمیغ غلط</p> <p>(۱) پیامبر گرامی اسلام اعضای جامعه را به اعضای بدن تشبیه کرده اند . <input type="checkbox"/> ص <input type="checkbox"/> غ</p> <p>(۲) تعاون تنها به فانه ، مدرسه و ممله محدود نمی شود . <input type="checkbox"/> ص <input type="checkbox"/> غ</p> <p>(۳) قوه مقننه همان دولت و سازمان های وابسته به دولت است . <input type="checkbox"/> ص <input type="checkbox"/> غ</p> <p>(۴) شهروندان در رابطه با دولت حق دارند مالیات بدهند و با دولت همکاری صمیمانه داشته باشند . <input type="checkbox"/> ص <input type="checkbox"/> غ</p> <p>(۵) تغییرات جسمانی در دوران نوجوانی را بلوغ می گویند . <input type="checkbox"/> ص <input type="checkbox"/> غ</p> <p>(۶) نفست هر نوجوانی باید در خانواده مورد مراقبت قرار گیرد . <input type="checkbox"/> ص <input type="checkbox"/> غ</p>	ب
۳	<p>سوالات جای خالی</p> <p>(۱) همه ی ما انسان ها در مقابل خداوند نسبت به مسئول هستیم .</p> <p>(۲) یکی از انواع وقف و وقف است .</p> <p>(۳) رئیس جمهور برای مدت چهار سال با رأی مردم انتخاب می شود .</p> <p>(۴) یکی از اقدامات دولت ها تنظیم در امور مختلف است.</p> <p>(۵) پرفاشگری و نزاع نتیجه است .</p> <p>(۶) رئیس قوه قضائیه برای مدت پنج سال توسط انتخاب می شود .</p>	ج

۳	<p>سوالات پاسخ کوتاه</p> <p>د</p> <p>۱) اثر همکاری در محله چیست ؟ یک مورد</p> <p>۲) به اموال و دارایی هایی که وقف می شوند چه می گویند ؟</p> <p>۳) صلاحیت داوطلبان انتخابات چگونه تایید می شود ؟</p> <p>۴) دولت بیشتر درآمدهای خود را از چه راهی به دست می آورد ؟</p> <p>۵) فتنه و عصیانیت چگونه اساسی است ؟</p> <p>۶) مرجع رسیدگی به شکایات مردم چه نهادی است ؟</p>	د
۱ ۱/۵ ۱ ۱/۵ ۱/۵ ۱/۵	<p>سوالات پاسخ بلند</p> <p>هـ</p> <p>۱) چرا انسان نمی تواند نسبت به اتفاقات اطراف خود بی تفاوت باشد ؟</p> <p>۲) انفاق یعنی چه ؟</p> <p>۳) تنفیذ یعنی چه ؟</p> <p>۴) بودجه چیست ؟ توضیح دهید .</p> <p>۵) مواد مخدر چه خصوصیات دارند ؟</p> <p>۶) وکیل چیست ؟</p>	هـ