



آزمون نوبت اول سال تحصیلی ۱۴۰۲-۱۴۰۱

پایه نهم دوره اول متوسطه

تاریخ: ۱۴۰۱/۱۰/۲۵

دبیر: آقای خوردچشم زمان آزمون: به اندازه تقریر

محدوده آزمون: ۱ تا ۸

نام درس: املا فارسی

نمره آزمون:

امضای دبیر

- اگر در خانه ای شوی که به نقش و گچ ، کنده کرده باشند ، روزگاری دراز ، صفت آن گویی و تعجب کنی و همیشه در خانه خدایی ، هیچ تعجب نکنی ! و این عالم ، خانه خداست و فرش وی ، زمین است ولکن سقفی بی ستون و این ، عجب تر است و چراغ وی ماه است و شعله وی آفتاب و قندیل های وی ستارگان و تواز عجایب این ، غافل که خانه بس بزرگ است و چشم تو بس مختصر و در وی نمی گنجد .
- نوجوانی تولد دوباره انسان است . در این مرحله پر تب و تاب ، نوجوان ، افزون بر رابطه با خود ، نیازمند رابطه ای دیگر نیز هست ؛ نیازمند دو چشم دیگر که نوجوان را ببیند و به او بگوید : کیست و چگونه است ؛ از همین جاست که دوستی و پیوند با دیگران آغاز می شود.
- یکی از زمینه های اجتماعی گمراه شدن ، تأثیر هم نشین بد است . همان گونه که هم نشینی با دوست خوب ، عامل مهم گرایش به کار های نیک است ، به تجربه ، ثابت شده است که انسان ، تحت تأثیر رفتار و کردار دوست فرا می گیرد و رفیق بد ، عامل ویرانگری و یار همدم نیکو خصال ، باعث شکل گیری و پرورش شخصیت متعالی انسان است .
- بدان که مردم بی هنر ؛ مادام بی سود باشد ، چون مغیلان که تن دارد و سایه ندارد ؛ نه خود را سود کند و نه غیر را ؛ جهد کن که اگر چه اصیل و گوهری باشی ، گوهر تن نیز داری که گوهر تن از گوهر اصل بهتر بود .
- به هر روی ، ایران از آن همه ایرانیان است ؛ همه ایرانیان که در خاکش بزرگ شده اند و از آبش نوشیده اند و در هوایش پرورده اند ؛ با آرامش آن آرمیده اند و در آشوبش بی قراری کرده اند ؛ در صحنه های رزمش ، دلاورانه پیکار کرده اند و در جشن هایش ، صف های میلیونی بسته اند و دشمنان را انگشت به دهان گذاشته اند .



آزمون نوبت اول سال تحصیلی ۱۴۰۲-۱۴۰۱

نام و نام خانوادگی :

پایه نهم دوره اول متوسط

کلاس :

تاریخ : ۱۴۰۱/۱۰/۲۵


زمان آزمون : ۲۵ دقیقه

دبیر : آقای خوردچشم

محدوده آزمون : دروس ۱ تا آخر ۸

نام درس : املا فارسی

نمره آزمون :		امضای دبیر
ردیف	سوال	بارم
۱	<p>دانش آموزان گرامی، در متن زیر، تعداد ۲۰ غلط املائی وجود دارد. آنها را پیدا کرده و شکل درست شان را در پاسخ نامه بنویسید.</p> <p>چند تذکر:</p> <p>– آوردن یا نیاوردن تشدید، و سر هم یا جدانویسی غلط املائی به حساب نمی آید.</p> <p>– در پاسخ نامه، فقط نوشتن شکل درست لغت (البته به ترتیب) کافی است.</p> <p>نگاه کن مرقان هوا و حشرات زمین را هر یکی بر شکلی دیگر و بر ثورتی دیگر و همه از یکدگر نیکوتر؛ هر یکی را آنچه به کار باید، داد و هر یکی را بیاموخته که غذای خویش چون به دست آورد و بچه را چون نگه دارد تا بزرگ شود و آشیان خویش چون کند. در مورچه نگاه کن به وقت خویش غذا را چون جمع کند.</p> <p>دوستان واقعی، راه نیک بختی را به ما نشان می دهند و همراهان خوبی برای شکوفایی بهتر هستند. آنها مثل آینه، همان قدر که خوبی ها را پیش چشم می آورند، عیب ها را هم به ما می نمایانند و مهم آنکه این همه را بی صدا و بی حیا، باز می گویند. رسم دوستی، شکستن آینه نیست؛ درست آن است که فرصت باذاندیشی و خودشکوفایی را پدید آوریم و گامی به سوی فراطرف رفتن برداریم.</p> <p>هر که با بدن نشیند، اگر نیز طبیعت ایشان در او اثر نکند، به تریقت ایشان متهم گردد. پس یکی از زمینه های اجتماعی گمراه شدن، تأثیر هم نشین بد است. همان گونه که هم نشینی با دوست خوب، عامل مهم گرایش به کارهای نیک است، به تجربه صابت شده است که انسان، تهت تأثیر رفتار و کردار دوست قرار می گیرد و رفیق بد، عامل ویرانگری و یار و همدم نیکو خسال، باعث شکل گیری و پرورش شخصیت متعالی انسان است.</p> <p>آدمی باید که بسیار نگوید و سخن دیگری به سخن خود قطع نکند. اگر پرسش از جماعتی کنند که او داخل آن جماعت بود، بر ایشان ثبقت ننماید و اگر کسی به جواب مشقول شود، او بر بهتر جوابی از آن، غادر بود، صبر کند تا آن سخن، تمام شود، پس جواب خود بگوید بر وجحی که در متقدم تعن نکند و در مهاراتی که به حضور او میان دو کس رود، خوز ننماید و اگر از او پوشیده دارند، استراغ سمع نکند و تا او را با خود در آن مشارکت ندهند، مداخلت نکند.</p> <p>این ستد و دادِ مادر - فرزندی و جان فشانی یکی بر دیگری، دو تویه است. اگر فرزند را ناخوشی و گزند روی نماید، مادر بی خویش و ناآرام است و هرگاه مادر را اندوه و آسیبی فراگیرد، فرزندان نیز آرام و قرار ندارند و بی شکیب و به جان می کوشند تا آرام جان خانه را به آرامش بازآورند و خفاش خویان را از محر رخ مادر، دور بدارند.</p> <p>موفق باشید</p>	۲۰





آزمون نوبت اول سال تحصیلی ۱۴۰۲-۱۴۰۱

نام و نام خانوادگی :

پایه نهم دوره اول متوسط

کلاس :

تاریخ : ۱۴۰۱/۱۰/۲۶

زمان آزمون : ۴۰ دقیقه

دبیر : آقای دیانی

محدوده آزمون : درس ۱ تا آخر درس ۵

نام درس : آمادگی دفاعی

امضای دبیر		نمره آزمون :	
بارم	سوال	ردیف	
۱	<p>گزینه صحیح را انتخاب نمایید.</p> <p>الف) چه کسی دستور تشکیل ارتش بیست میلیونی بسیج را صادر کرد ؟</p> <p>۱- آیت .. خامنه ای <input type="checkbox"/> ۲- امام خمینی (ره) <input type="checkbox"/> ۳- سردار سلیمانی <input type="checkbox"/> ۴- آیت .. رفسنجانی <input type="checkbox"/></p> <p>ب) در چه تاریخی جمهوری اسلامی به رسمیت شناخته شد ؟</p> <p>۱- ۵۷/۰۶/۱۶ <input type="checkbox"/> ۲- ۵۷/۰۳/۰۳ <input type="checkbox"/> ۳- ۲۲ بهمن ۵۹ <input type="checkbox"/> ۴- ۱۲ فروردین ۵۷ <input type="checkbox"/></p>	۱	
۲	<p>جملات زیر را با کلمه ی مناسب کامل کنید .</p> <p>الف) به هرگونه آمادگی در مقابل تهاجم می گویند .</p> <p>ب) به نبرد خشن و مسلحانه ای که بین دو یا چند اجتماع مستقل اتفاق می افتد می گویند .</p> <p>ج) اگر ارزش ها ، باور ها و اعتقادات یک جامعه مورد هدف قرار گیرد ، می گوئیم تهدید از نوع است .</p> <p>د) در ساده ترین تعریف یعنی دور بودن از خطرات مادی و معنوی .</p>	۲	
۱	<p>جملات صحیح را با ص و جملات غلط را با غ مشخص کنید.</p> <p>الف) در حالت کلی، تهدید برای تأثیر گذاشتن بر باور ها ، افکار و رفتار دیگران به منظور تسلیم کردن آن ها در برابر خواست تهدید کنندگان است . ()</p> <p>ب) مردم با ایمان میهن ما سعادت دنیا و آخرت خود را در اقامه ی نماز اول وقت می دانند . ()</p>	۱	
۲	<p>به سوالات زیر پاسخ کوتاه دهید .</p> <p>الف) جنگ ایران و عراق در چه تاریخی آغاز شد ؟</p> <p>ب) سه ورزشی که پیامبر اکرم (ص) به آن تأکید فرمودند را بنویسید .</p>	۲	

بارم	سوال	ردیف
۲	<p>به سوالات زیر پاسخ کامل دهید.</p> <p>الف) چرا ما خود را در جنگ تحمیلی پیروز می دانیم؟ (۴ مورد)</p>	۵
۲	<p>ب) فعالیت های بسیج بعد از دوران دفاع مقدس را بیان کنید .</p>	
۲	<p>ج) راه حفظ و ادامه ی انقلاب اسلامی چیست؟</p>	



آزمون نوبت اول سال تحصیلی ۱۴۰۲-۱۴۰۱

پایه نهم دوره اول متوسط

نام و نام خانوادگی :

شماره صندلی :

تاریخ : ۱۴۰۱/۱۱/۰۱

زمان آزمون : ۶۰ دقیقه

دبیر : آقای ویسه

محدوده آزمون : درس ۱ تا پایان درس ۶

نام درس : پیام های آسمان

امضای دبیر		نمره آزمون :	
بارم	سوال	ردیف	
۲	<p>تستی :</p> <p>۱- مطابق حدیث پیامبر (ص) از بهترین کار های امت ایشان چه چیزی است ؟</p> <p>الف) گشاده رویی ب) مهربانی ج) انتظار د) وضو گرفتن</p> <p>۲- آخرین مرحله تیمم کدام است ؟</p> <p>الف) کشیدن کف دو دست بر پیشانی و اطراف آن ب) کشیدن کف دست چپ بر پشت دست راست</p> <p>ج) کشیدن کف دست راست بر پشت دست چپ د) زدن دو دست با هم بر روی خاک</p> <p>۳- «برگ درختان سبز در نظر هوشیار هر ورقش دفترست معرفت کردگار» به ترتیب معین کنید این بیت مربوط به کدام راه خداشناسی است ؟ و بهترین راه خداشناسی نیز کدام است ؟</p> <p>الف) تفکر در کتاب خلقت - تفکر در کتاب خلقت ب) تفکر در کتاب آسمانی - تفکر در کتاب آسمانی</p> <p>ج) تفکر در کتاب آسمانی - تفکر در کتاب خلقت د) تفکر در کتاب آسمانی - تفکر در کتاب آسمانی</p> <p>۴- آیه مبارکه « فَأَمَّا الَّذِينَ آمَنُوا بِاللَّهِ وَاعْتَصَمُوا بِهِ فَسَيُدْخِلُهُمْ فِي رَحْمَةٍ مِنْهُ وَفَضْلٍ وَ يَهْدِيهِمْ إِلَى صِرَاطٍ مُسْتَقِيمًا » درباره</p> <p>الف) هدایت شدن، که از راه های به دست آوردن ایمان است می باشد. ب) آرامش ، که از راه های به دست آوردن ایمان است می باشد .</p> <p>ج) آرامش ، که از آثار ایمان است می باشد . د) هدایت شدن، که از آثار ایمان است می باشد.</p>	الف	
۲	<p>صحيح يا غلط را با «ص» یا «غ» مشخص کنید :</p> <p>۵- حضرت نوح (ع) مردم زمان خود را ۹۵۰ سال به یکتاپرستی دعوت کرد و در این مدت ، تعداد بسیار زیادی به او ایمان آوردند .</p> <p>۶- اگر ایمان به خدا در درون انسان کم رنگ شود ، میل به خرافات افزایش می یابد .</p> <p>۷- در تورات و انجیل از نجات بخش بزرگ آسمانی سخن به میان آمده است .</p> <p>۸- در آیه شریفه «وَهُوَ الْغَفُورُ الْوَدُودُ» خداوند خود را دوستدار توبه کنندگان معرفی می فرماید .</p> <p>صحيح غلط صحيح غلط صحيح غلط صحيح غلط</p>	ب	
۰/۵	<p>پاسخ کوتاه دهید:</p> <p>۹- حمد به چه معناست ؟</p> <p>۱۰- طبق حدیث امام علی (ع) دو برادر همراه و دو دوست جدایی ناپذیر کدامند ؟</p> <p>۱۱- در جاهای خالی کلمه جا افتاده مناسب را قرار دهید .</p> <p>الَّذِينَ آمَنُوا وَ قُلُوبُهُمْ بِذِكْرِ اللَّهِ أَلَا بِذِكْرِ اللَّهِ الْقُلُوبِ .</p>	ج	
۲	<p>پاسخ کامل دهید.</p> <p>۱۲- چهار مورد از اتفاقات بعد از ظهور امام زمان (عج) را بنویسید .</p>	د	

ردیف	سوال	بارم																
	۱۳- دو دلیل برای امکان طولانی بودن عمر حضرت مهدی (عج) را بنویسید .	۱																
	۱۴- ولایت فقیه را تعریف کنید و سه ویژگی آن را نام ببرید .	۲																
	۱۵- در جدول زیر معین کنید برای هر کدام از کار های مطرح شده وضو واجب است یا مستحب :																	
	<table border="1"> <thead> <tr> <th>ردیف</th> <th>کاری که انجام می شود</th> <th>واجب</th> <th>مستحب</th> </tr> </thead> <tbody> <tr> <td>الف</td> <td>تلوت کردن قرآن</td> <td></td> <td></td> </tr> <tr> <td>ب</td> <td>دست زدن به یکی از نام های خداوند</td> <td></td> <td></td> </tr> <tr> <td>ج</td> <td>زیارت حرم های امامان علیهم السلام</td> <td></td> <td></td> </tr> </tbody> </table>	ردیف	کاری که انجام می شود	واجب	مستحب	الف	تلوت کردن قرآن			ب	دست زدن به یکی از نام های خداوند			ج	زیارت حرم های امامان علیهم السلام			۱/۵
ردیف	کاری که انجام می شود	واجب	مستحب															
الف	تلوت کردن قرآن																	
ب	دست زدن به یکی از نام های خداوند																	
ج	زیارت حرم های امامان علیهم السلام																	
	۱۶- چهار مورد از شرایط وضوی صحیح را نام ببرید .	۲																
	۱۷- «ایمان» را تعریف کنید .	۱																
	۱۸- آلبرت انیشتین دربارهٔ مواجهه انسان با شگفتی های طبیعت چه می گوید ؟	۱																
هـ	<p>حدس بزن : مطالب زیر درباره چه شخصیتی می باشد ؟</p> <p>۱۹- مطابق اعتراف مشاور ارشد آمریکا، او غرب را با بحران جدی برنامه ریزی مواجه کرد . تصمیمات او آنچنان رعد آسا بود که مجال هرگونه تفکر و برنامه ریزی را از سیاست مداران و نظریه پردازان می گرفت :</p> <p>۲۰- او بار ها عمومی خود، آزر را به یکتاپرستی دعوت می کرد ؛ نه تنها مردم عادی بلکه نمود ، طاغوت زمانه را با استدلال های محکم به چالش کشید و به خدا پرستی دعوت کرد :</p> <p>۲۱- آنان وارث بهشت اند و رستگار شدند ، نمازشان را با خشوع و فروتنی در برابر خداوند می خوانند و از کار های لغو و بی فایده دوری می کنند :</p>	۱/۵																
و	<p>جور کردنی : هر کدام از عبارات سمت راست را به گزینه مربوط در سمت چپ مرتبط کنید . (یک گزینه اضافی است)</p> <p>۲۲- موجب افزایش عمر انسان است .</p> <p>۲۳- نپذیرفتن حکم آنان ، خوار شمردن حکم خداوند است .</p> <p>۲۴- اِنَّ الَّذِیْنَ قَالُوْا رَبَّنَا اللّٰهُ ثُمَّ اسْتَقَامُوْا تَتَنَزَّلُ عَلَیْهِمُ الْمَلَائِكَةُ</p>	۱/۵																



آزمون نوبت اول سال تحصیلی ۱۴۰۲-۱۴۰۱

پایه نهم دوره اول متوسط

نام و نام خانوادگی :

شماره دانش آموزی :

تاریخ : ۱۷ / ۱۰ / ۱۴۰۱

زمان آزمون : ۹۰ دقیقه

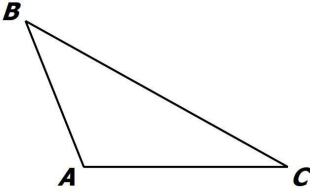
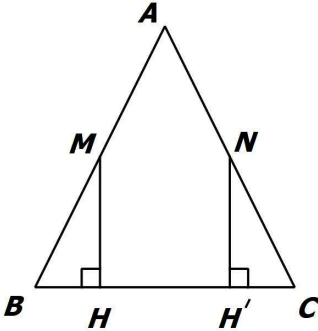
دبیر : آقای ملکی

محدوده آزمون : از ابتدای کتاب تا پایان فصل ۴

نام درس : ریاضی

امضای دبیر		نمره آزمون :
بارم	سوال	ردیف
۱	<p>عبارات های درست را با \checkmark و نادرست را با \times مشخص کنید .</p> <p>(۱) مجموعه اعداد طبیعی بین ۳ و ۴ ، یک مجموعه تهی را مشخص می کند . <input type="checkbox"/></p> <p>(۲) عدد $\sqrt{12}$ عددی گویا است . <input type="checkbox"/></p> <p>(۳) به استدلالی که موضوع مورد نظر را به درستی نتیجه بدهد اثبات می گوئیم . <input type="checkbox"/></p> <p>(۴) $\sqrt[3]{a+b} = \sqrt[3]{a} + \sqrt[3]{b}$. <input type="checkbox"/></p>	A
۱	<p>جاهای خالی را با عدد یا کلمه مناسب کامل کنید .</p> <p>(۱) عدد $5 - \sqrt{7}$ بین دو عدد صحیح متوالی و قرار دارد .</p> <p>(۲) مجموعه ای دارای ۳۲ زیر مجموعه است . این مجموعه دارای عضو است .</p> <p>(۳) در دو شکل متشابه اضلاع متناظر با یکدیگر هستند .</p> <p>(۴) حاصل $(-2)^{-3}$ برابر است با</p>	B
۲	<p>گزینه صحیح را انتخاب کنید .</p> <p>۱- مجموعه $A = \{a, \{a\}\}$ چند زیر مجموعه دارد ؟</p> <p>الف) ۲ <input type="checkbox"/> ب) ۴ <input type="checkbox"/> ج) ۱ <input type="checkbox"/> د) ۳ <input type="checkbox"/></p> <p>۲- در معادله $X-1 = 3$ ، چه مقادیری می تواند باشد ؟</p> <p>الف) ۲ و ۴ <input type="checkbox"/> ب) ۲ و ۴ <input type="checkbox"/> ج) ۲ و ۴ <input type="checkbox"/> د) ۲ و ۴ <input type="checkbox"/></p> <p>۳- دو لوزی متشابه هستند و نسبت تشابه آن ها $\frac{3}{4}$ است. اگر ضلع لوزی کوچکتر ۱۲ باشد ضلع لوزی بزرگتر چقدر است؟</p> <p>الف) ۶ <input type="checkbox"/> ب) ۹ <input type="checkbox"/> ج) ۲۱ <input type="checkbox"/> د) ۱۶ <input type="checkbox"/></p> <p>۴- نماد علمی عدد ۳۰۰۳۰۰ کدام است ؟</p> <p>الف) $300/3 \times 10^3$ <input type="checkbox"/> ب) $30/0.3 \times 10^4$ <input type="checkbox"/></p> <p>ج) $3/003 \times 10^5$ <input type="checkbox"/> د) $0/3003 \times 10^6$ <input type="checkbox"/></p>	C

ردیف	سوال	بارم
D ۱	سوالات تشریحی : فرض کنید $A = \{x+1 \mid x \in \mathbb{N}, x < 4\}$ و $B = \{2k \mid k \in \mathbb{W}, k \leq 3\}$ و $C = \{3m-1 \mid m \in \mathbb{N}, m < 3\}$ مجموعه های زیر را تشکیل دهید .	۱/۷۵
	A = { الف) $A \cap B$ ب) $(A \cup C) - B =$	
۲	دو تاس را هم زمان پرتاب می کنیم . الف) تعداد کل حالات را بنویسید . ب) احتمال آن که هر دو تاس یکسان باشد چقدر است ؟ ج) احتمال آن که هر دو تاس زوج بیاید چقدر است ؟	۱/۲۵
۳	دو مجموعه زیر با هم برابرند . مقادیر مجهول را به دست آورید .	۰/۵
	$\{9, a-3, 4\} = \{8, 2^2, b\}$	
۴	الف) دو عدد گنگ بین ۳ و $\sqrt{3}$ بنویسید . ب) مجموعه $A = \{x \in \mathbb{R} \mid -3 < x \leq 1\}$ را روی محور نشان دهید .	۱
۵	اگر $a = -2$ و $b = -3$ و $c = -4$ باشد ، حاصل عبارت زیر را بنویسید .	۱
	الف) $ a+b + 5 c-b =$	

ردیف	سوال	بارم
۶	حاصل عبارت زیر را به دست آورید . $-\frac{1}{2} + \frac{2}{3} \div \frac{4}{3} \times \frac{1}{2} + \frac{1}{2}$	۰/۵
۷	الف) نوع هر یک از اعداد گویای زیر را مشخص کنید . $\frac{7}{6}$ $\frac{3}{8}$ ب) عدد اعشاری $0.\overline{527}$ را به عدد گویا تبدیل کنید .	۱/۵
۸	عمود منصف های مثلث زیر را رسم کرده و نقطه هم‌رسی آن ها را مشخص کنید . 	۱
۹	مثلث ABC متساوی الساقین است . نقاط M و N وسط دو ساق هستند . ثابت کنید $BH = CH'$ 	۱/۵
۱۰	بر روی یک نقشه فاصله دو شهر $7/5$ سانتی متر و مقیاس نقشه $\frac{1}{200000}$ است . فاصله واقعی این دو شهر را بر حسب کیلومتر به دست آورید .	۱

ردیف	سوال	بارم
۱۱	الف) مقدار عبارت مقابل را به دست آورید . ب) عبارت مقابل را به صورت عدد توان دار بنویسید . ج) کسر زیر را ساده کنید .	۱/۵
	$3^{-1} + \left(\frac{1}{2}\right)^{-2} + (-4)^0 =$ $\left(\frac{1}{3}\right)^{-10} \times 27^{-3}$ $\frac{8^{-5} \times 27^{-2} \times 33^4}{11^4 \times 16^{-3} \times 9^{-6}}$	
۱۲	عبارت $300 \times 10^{-4} \times \frac{1}{1.5} \times 0.0002$ را به صورت نماد علمی بنویسید .	۱
۱۳	الف) حاصل را به ساده ترین شکل بنویسید . ب) عبارت زیر را ساده کنید . پ) مخرج کسر مقابل را گویا کنید .	۱/۵
	$\frac{\sqrt[3]{60} \times \sqrt[3]{9}}{\sqrt[3]{20}}$ $\sqrt{12} - 2\sqrt{50} + \sqrt{27} - 2\sqrt{18}$ $\frac{2}{3\sqrt{2}}$	
۱۴	در معادله توانی مقابل ، مقدار K را بیابید .	۱
	$\left(\frac{4}{5}\right)^{2k+1} = \left(\frac{5}{4}\right)^{k+2}$	



آزمون نوبت اول سال تحصیلی ۱۴۰۱-۱۴۰۲

پایه نهم دوره اول متوسطه

نام و نام خانوادگی :

شماره صندلی :

تاریخ : ۱۴۰۱/۱۰/۲۱

زمان آزمون : ۵۰ دقیقه

دبیر : جناب آقای قربانی

محدوده آزمون : درس ۱ تا ۳

نام درس : زبان انگلیسی

امضای دبیر		نمره آزمون :	
بارم	سوال	ردیف	
1	Choose the odd words . 1) brave / generous / careless / patient 2) swimming / spring / watching / reading	A	کلمه نا هماهنگ را مشخص کنید . (از لحاظ گرامر یا معنی)
2	Make question . 3) - I'm buying a <u>ticket</u> . 4) - <u>No</u> , my mother doesn't make a special food .	B	سوال بسازید . (با توجه به کلمه که زیر آن خط کشیده شده است.)
2	Write synonym or antonym . 5) talkative ≠ 7) land ≠ 6) reserve = 8) usually =	C	مترادف یا متضاد بنویسید .
2	Edit the sentences . 9) My cousin and I sets the Haft seen Table 10) There is five people in my family. 11) Is she stand by the gift shop ? 12) His mother don't know the correct answer	D	در جملات زیر ۴ غلط گرامری وجود دارد . آن ها را پیدا کرده و صحیح آن را در جای داده شده بنویسید .
2	Answer the questions . 13) Do young children color the eggs ? (buy gold fish) 14) Who is visiting Tehran ? (kate)	E	به سوالات پاسخ کامل بدهید . (با توجه به کلمات داخل پرانتز)
1	Choose the odd words . 15) <u>funny</u> / <u>lunch</u> / <u>rude</u> / <u>buy</u> 16) <u>cleans</u> / <u>cooks</u> / <u>talks</u> / <u>checks</u>	F	کلمه نا هماهنگ را مشخص کنید . (از لحاظ تلفظ)

بارم	سوال	ردیف						
3	<p>Choose the best choice . مناسب ترین گزینه را انتخاب کنید .</p> <p>17) We exchange money the airport . a) on b) in c) at d) by</p> <p>18) Are you funny ? No , I'm a) serious b) neat c) helpful d) clever</p> <p>19) They sing the national every morning. a) parade b) ceremony c) anthem d) story</p> <p>20) Mr. Brown water the flowers ? a) Does b) Do c) Is d) Are</p> <p>21) Their uncle military parade . a) watch b) reads c) commemorate d) watches</p> <p>22) Is this the door the classroom ? a) 's b) of c) s' d) with</p>	G						
3	<p>unscramble and write . مرتب کنید .</p> <p>23) don't / the work / our relatives / during / . / we / visit</p> <p>24) like / ? / friend / what / your / is</p> <p>25) the passports / checking / . / the officer / hotel / is / in</p>	H						
1	<p>Fill in the blanks . جاهای خالی را با کلمات داده شده کامل کنید. (یک لغت اضافی است)</p> <p>receptionist / usually / ask / ticket / key</p> <p>26) I'll him to help me .</p> <p>27) This is your It's room 425 .</p> <p>28) Are you talking to a</p> <p>29) We get money in Norooz as a gift .</p>	I						
2	<p>Fill in the blanks . جاهای خالی را با فعل یا حرف اضافه مناسب کامل کنید .</p> <table border="1" style="width: 100%; border-collapse: collapse;"> <thead> <tr> <th style="width: 50%; text-align: center;">Verb (فعل)</th> <th style="width: 50%; text-align: center;">Preposition (حرف اضافه)</th> </tr> </thead> <tbody> <tr> <td style="text-align: center;">30) the plane</td> <td style="text-align: center;">32) Pack a trip</td> </tr> <tr> <td style="text-align: center;">31) fireworks</td> <td style="text-align: center;">33) the first day</td> </tr> </tbody> </table>	Verb (فعل)	Preposition (حرف اضافه)	30) the plane	32) Pack a trip	31) fireworks	33) the first day	J
Verb (فعل)	Preposition (حرف اضافه)							
30) the plane	32) Pack a trip							
31) fireworks	33) the first day							
1	<p>Write the missing letters . جاهای خالی را با حروف مناسب کامل کنید.</p> <p>34) A nerv_us pers_n</p> <p>35) We_r special cloth_s</p>	K						

Good Luck



آزمون نوبت اول سال تحصیلی ۱۴۰۲-۱۴۰۱

پایه نهم دوره اول متوسط

نام و نام خانوادگی :

شماره دانش آموزی :

تاریخ : ۱۴۰۱/۱۰/۱۹

زمان آزمون : ۶۰ دقیقه

دبیر : آقای مبارکی

محدوده آزمون : درس ۱ تا آخر ۵

نام درس : عربی

امضای دبیر		نمره آزمون :	
بارم	سوال	ردیف	
۰/۵	<p>مهارت واژه شناسی :</p> <p>کلمات مترادف و متضاد را از بین کلمات داده شده مشخص کنید . (یک کلمه اضافی است)</p> <p>« طَرَقَ ، قَصَدَ ، قُبِحَ ، قَرَعَ ، جَمَالَ »</p> <p>الف) = (ب) ≠</p>	۱	
۰/۵	<p>کلمات مشخص شده را ترجمه کنید .</p> <p>الف) عَجَزَ الْمَرِيضُ قَرَقَدَ فِي الْبَيْتِ . ()</p> <p>ب) حَاوَلَ التَّعَلُّبَ وَ الْغَزَالَةَ . ()</p>	۲	
۰/۵	<p>کدام کلمه از نظر معنا و مفهوم با بقیه کلمات ناهماهنگ است ؟</p> <p>الف) آیام <input type="radio"/> نیالی <input type="radio"/> شهور <input type="radio"/> نجاج <input type="radio"/></p> <p>ب) اَسْمَعَ <input type="radio"/> اَكْتَبَ <input type="radio"/> اَفْتَحَ <input type="radio"/> اَزْرَعُ <input type="radio"/></p>	۳	
۱	<p>موارد خواسته شده را بنویسید .</p> <p>الف) ترجمه ریح ()</p> <p>ب) جمع مَطَرٍ ()</p> <p>ج) مفرد أعداء ()</p> <p>د) مفرد شاعرات ()</p>	۴	
۴	<p>مهارت ترجمه :</p> <p>جملات زیر را ترجمه کنید .</p> <p>الف) هُوَ ظَنَّ أَنَّ الْحَمَامَةَ تُشَجِّعُهُ عَلَى الْخُرُوجِ ←</p> <p>ب) اِثْنَانٍ لَا يَنْظُرُ اللَّهُ إِلَيْهِمَا قَاطِعُ الرَّحِمِ وَ جَارُ السَّوِّءِ ←</p> <p>ج) فَعَبَّرَ الْجِسْرَ وَ بَدَأَ بِالْبِكَاءِ وَ قَبْلَ أَخَاهُ وَ اعْتَدَرَ ←</p> <p>د) رَبَّنَا لَا تَجْعَلْنَا مَعَ الْقَوْمِ الظَّالِمِينَ ←</p>	۵	
۱	<p>اصطلاحات زیر که مربوط به اربعینات می باشد را ترجمه کنید .</p> <p>الف) اَيُمْكِنُ اَنْ تُسَاعِدُنِي ؟ ←</p> <p>ب) رَجَاءَ شَعَلِ الْمُكَيِّفِ . ←</p>	۶	
۱	<p>مهارت کاربرد قواعد :</p> <p>الف) وزن کلمه مِفْتَاح ()</p> <p>ب) حروف اصلی شَهَادَة ()</p> <p>ج) با حروف «ج هـ د» کلمه ای بر وزن افتعال ()</p> <p>د) ترجمه صانع ()</p>	۷	

ردیف	سوال	بارم						
۸	در جای خالی فعل ماضی و مضارع مناسب بنویسید . الف) ماذا كُتِبْتُمْ ؟ التمريعات . ب) الطلاب الى المدرسة .	۰/۵						
۹	در جای خالی فعل امر یا نهی مناسب بنویسید . الف) یا حبیبی حقیبتک هنا . ب) یا طلاب الى نزول المطر . ج) یا أختی مُستقبلك . د) آیتها المعلمات الى الصف .	۱						
۱۰	در جملات زیر فقط فعل ها را مشخص کرده و سپس ترجمه کنید . الف) أَنْتَ تَقْدِرُ عَلَى الْخُرُوجِ بِسُهُولَةٍ . () ب) لَا تَحْزَنْ إِنَّ اللَّهَ مَعَنَا . () ج) أَسْجُدُ لِلَّهِ رَبِّ الْعَالَمِينَ . () د) الطُّلَابُ سَوْفَ يَرْجِعُونَ مِنَ السَّفَرِ . ()	۱						
۱۱	مهارت درک فهم : هر کلمه را به جمله مربوط به آن وصل کنید . (یک کلمه اضافی است) ۱- المَصِير ۲- الجَامِعَة ۳- الحَطَب ۴- الدُّخَان ۵- الرِّصِيف	۱						
۱۲	جدول زیر را کامل کنید .	۱						
	<table border="1"> <tr> <td>سَمِعَ : شنید</td> <td>تَسْمَعُونَ :</td> <td>اسْمَعُوا :</td> </tr> <tr> <td>صَنَعَ : ساخت</td> <td>اصْنَعُ :</td> <td>لا تَصْنَعِي :</td> </tr> </table>	سَمِعَ : شنید	تَسْمَعُونَ :	اسْمَعُوا :	صَنَعَ : ساخت	اصْنَعُ :	لا تَصْنَعِي :	
سَمِعَ : شنید	تَسْمَعُونَ :	اسْمَعُوا :						
صَنَعَ : ساخت	اصْنَعُ :	لا تَصْنَعِي :						
۱۳	متن زیر را بخوانید و پاسخ صحیح را با علامت (X) مشخص کنید . أَنَا وَأَسْرَتِي سَافَرْتُ قَبْلَ يَوْمَيْنِ . فَجَاءَهُ ظَهْرُ سَحَابٍ فِي السَّمَاءِ . ثُمَّ نَزَلَ مَطَرٌ شَدِيدٌ . وَأَصَابَتْ صَاعِقُهُ سَيَّارَتَنَا فَاحْتَرَقَتْ . قَالَ الْآبُ . لَا رَجَاءَ لِنَجَاتِنَا أَجَابَ سَعِيدٌ : لَا تَيَاسُ مِنْ رَحْمَةِ اللَّهِ . ۱- ما قال الأب ؟ الف) لا تياس ○ ب) لا رجاء لِنَجَاتِنَا ○ ۲- هَلْ احْتَرَقَتْ سَيَّارَتُهُمْ ؟ الف) نَعَمْ ○ ب) لا ○ ۳- مَنْ قَالَ : لَا تَيَاسُ مِنْ رَحْمَةِ اللَّهِ ؟ الف) الأب ○ ب) سَعِيد ○ ۴- أَصَابَتْ مَطَرٌ شَدِيدٌ سَيَّارَتَهُمْ . الف) درست ○ ب) نادرست ○	۱						
۱۴	به سوالات زیر به عربی پاسخ دهید . (پاسخ کوتاه) الف) أَيْنَ تَأْكُلُ الْفَطُورَ ؟ ب) فِي أَيِّ صَفٍّ أَنْتَ ؟	۱						



به نام خالق هستی

آزمون نوبت اول سال تحصیلی ۱۴۰۲-۱۴۰۱
پایه نهم دوره اول متوسطه

نام و نام خانوادگی :

کلاس :

شماره دانش آموزی :

تاریخ : ۱۴۰۱/۱۰/۲۴

زمان آزمون : ۷۵ دقیقه

دبیر : آقای مفرح

محدوده آزمون : ابتدای فصل ۱ تا انتهای فصل ۷

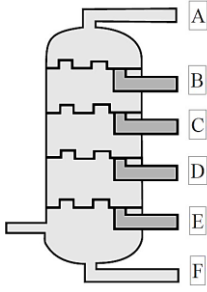
نام درس : علوم تجربی

نمره آزمون :		امضای دبیر
ردیف	تعداد صفحه های سوال ۴ صفحه	بارم
۱	<p>صحیح یا غلط (ص یا غ) بودن جمله های زیر را مشخص کنید:</p> <p>(الف) فلز مس از طریق ذوب سنگ معدن آن در دمای بالا به دست می آید. <input type="checkbox"/> ص <input type="checkbox"/> غ</p> <p>(ب) به اتمی که الکترون از دست داده باشد، آنیون گفته می شود. <input type="checkbox"/> ص <input type="checkbox"/> غ</p> <p>(پ) ورقه قاره ای چگالی بیشتری نسبت به ورقه اقیانوسی دارد و به زیر ورقه اقیانوسی فرو رانده می شود. <input type="checkbox"/> ص <input type="checkbox"/> غ</p> <p>(ت) وجود فسیل مرجان ها در لایه های رسوبی کوهستان بیانگر دریایی گرم و کم عمق در گذشته آن منطقه است. <input type="checkbox"/> ص <input type="checkbox"/> غ</p>	۱
۲	<p>گزینه مناسب را انتخاب کنید (دوران خط بکشید):</p> <p>(الف) بخش عمده گاز نیتروژن به عنوان ماده اولیه کدام ترکیب زیر به کار می رود؟ (۱) آمونیاک (۲) متان (۳) هیدرو کلریک اسید (۴) سولفوریک اسید</p> <p>(ب) سرعت یک خودرو در جاده ۷۲ کیلومتر بر ساعت است. سرعت آن چند متر بر ثانیه است؟ (۱) ۳۰ متر بر ثانیه (۲) ۲۵ متر بر ثانیه (۳) ۲۰ متر بر ثانیه (۴) ۱۵ متر بر ثانیه</p> <p>(پ) کمر بند لرزه خیز اطراف یکی از مهمترین نواحی لرزه خیز جهان است. (۱) اقیانوس اطلس (۲) اقیانوس آرام (۳) اقیانوس هند (۴) ورقه عربستان</p> <p>(ت) کدام گزینه از ویژگی های فسیل های راهنما نمی باشد؟ (۱) محدوده سنی مشخصی دارند (۲) نمونه های آن فراوان است (۳) تشخیص آنها آسان است (۴) همه جا پیدا نمی شود</p>	۱
۳	<p>در عبارت های زیر هر جای خالی را با انتخاب کلمه مناسب و جاگذاری آن کامل کنید:</p> <p style="border: 1px solid black; padding: 5px; display: inline-block;">هیدروکربن - بسپار - آهن - سدیم - خشکی - دریایی - جنس - مساحت سطح تماس - درزه - گسل</p> <p>(الف) هر..... از زنجیرهای بلندی تشکیل شده است که از اتصال تعداد زیادی مولکول کوچک به یکدیگر به دست می آید.</p> <p>(ب) یون یکی از یون های مهم بدن می باشد که مقدار آن در خون از کاتیون های دیگر بیشتر است.</p> <p>(پ) نفت خام مخلوطی از صدها ترکیب به نام می باشد.</p> <p>(ت) نیروی اصطکاک بین دو جسم به دو جسم بستگی دارد.</p> <p>(ث) اگر سنگ های دو طرف شکستگی نسبت به هم جابه جا شده باشند به وجود می آید.</p> <p>(ج) شرایط لازم برای تشکیل فسیل ، در محیط های مناسب تر است.</p>	۱/۵

سوال های تشریحی

ردیف

بارم

۱/۵	<p>۴ به سوال های زیر پاسخ کوتاه دهید:</p> <p>الف) عنصری جامد و زرد رنگ که در دهانه آتشفشان های خاموش یا نیمه فعال یافت می شود.</p> <p>ب) اگر برای تشکیل $۳۹/۲$ گرم سدیم کلرید $۱۵/۴$ گرم فلز سدیم مصرف شود به چند گرم گاز کلر نیاز داریم؟</p> <p>پ) ماده مصنوعی که از گرما دادن گاز اتن در ظرف دربسته با ایجاد یک تغییر شیمیایی به دست می آید.</p> <p>ت) نوع حرکت متحرک در هنگامی که سرعت آن در حال تغییر باشد.</p> <p>ث) خشکی واحد و بزرگ اولیه که حدود ۲۰۰ میلیون سال پیش وجود داشت.</p> <p>ج) محیطی مناسب برای تشکیل فسیل کامل یک ماموت است؟</p>	۴						
۱	<p>۵ الف) نقش گاز اوزون را بیان کنید؟</p> <p>ب) این گاز در کجا یافت می شود؟ (۲ مورد)</p> <p>۱- ۲-</p>	۵						
۱	<p>۶ در واکنش فلز سدیم با گاز فلوئور ، سدیم فلوئورید به دست می آید با توجه به نماد شیمیایی هر کدام به پرسش های زیر پاسخ دهید :</p> <p>۱۱Na و ۹F</p> <p>الف) آرایش الکترونی این دو اتم را (به روش کماتی) رسم کنید؟</p> <p>ب) کدامیک با از دست دادن الکترون به ذره ای با مدار ۸ الکترونی تبدیل می شود؟</p> <p>پ) آیا ترکیب یونی سدیم فلوئورید در مجموع خنثی می باشد یا غیر خنثی؟</p>	۶						
۰/۷۵	<p>۷ با حل کردن هر کدام از ترکیبات زیر در آب کدامیک رسانای الکتریکی و کدامیک نارسانا می باشند؟</p> <table border="1" data-bbox="598 1505 1305 1630"> <tbody> <tr> <td>کات کبود</td> <td>شکر</td> <td>پتاسیم پرمنگنات</td> </tr> <tr> <td></td> <td></td> <td></td> </tr> </tbody> </table>	کات کبود	شکر	پتاسیم پرمنگنات				۷
کات کبود	شکر	پتاسیم پرمنگنات						
۱	<p>۸ شکل مقابل یک برج تقطیر را نشان می دهد .</p> <p>الف) نقطه جوش کدام برش از بقیه بیشتر است ؟</p> <p>ب) مولکول های موجود در کدام برش کوچکتر و سبک تر است ؟ چرا؟</p> <p>پ) رنگ مخلوط ها در کدام برش تیره تر است؟</p> 	۸						

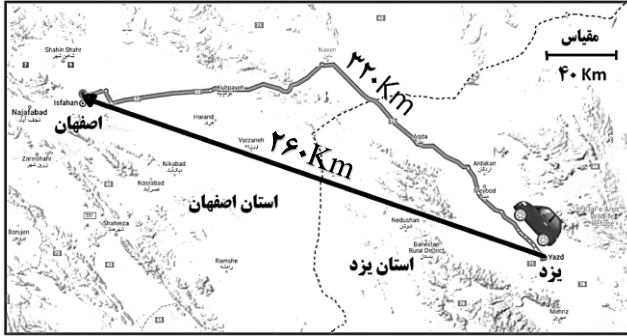
بارم	سوال	ردیف
۰/۵	<p>باتوجه به شکل ، کدامیک از فرمول های زیر به روغن شماره ۱ تعلق دارد؟ به چه دلیل ؟</p>  <p> <input type="checkbox"/> $C_{17}H_{36}$ <input type="checkbox"/> $C_{12}H_{26}$ <input type="checkbox"/> $C_2.H_{42}$ </p>	۹
۱	<p>اصطلاحات زیر را تعریف کنید:</p> <p>الف) نیروهای متوازن :</p> <p>ب) اصطکاک ایستایی :</p>	۱۰
۰/۵	<p>دو ویژگی نیروهای کنش و واکنش را بیان کنید.</p> <p>۱-</p> <p>۲-</p>	۱۱
۱	<p>به سوال های زیر پاسخ دهید:</p> <p>الف) دور شدن ورقه عربستان و ورقه آفریقا نسبت به هم بیانگر گسترش بستر کدام دریا می باشد؟</p> <p>ب) حرکت امتداد لغز ورقه های سنگ کره بیشتر در کجا رخ می دهد؟</p> <p>پ) سونامی چگونه ایجاد می گردد؟</p>	۱۲
۰/۵	<p>دو خصوصیت مهم سنگ های رسوبی که باعث اهمیت و کاربرد آنها در مطالعه تاریخچه زمین شده است را بیان کنید؟</p> <p>۱-</p> <p>۲-</p>	۱۳
۰/۵	<p>الف) درتوالی رسوبی مقابل اگر در لایه D فسیل راهنمایی به سن ۳۰۰ میلیون سال و در لایه B فسیل هایی با سن ۱۵۰ میلیون سال وجود داشته باشند سن تقریبی لایه C چقدر است؟</p>  <p>ب) رگه آذرین E از کدام لایه قدیمی تر است؟</p>	۱۴

مسائل

توجه: در مسائل داده شده نوشتن رابطه (فرمول) و یکا (واحد) الزامی است و نمره دارد.

۱۵

طول جاده بین شهر یزد تا شهر اصفهان ۳۲۰ کیلومتر و فاصله مستقیم آنها ۲۶۰ کیلومتر است اگر خودرویی فاصله بین این دو شهر را در مدت ۴ ساعت طی کند به دست آورید:



(الف) تندی متوسط خودرو بر حسب کیلومتر بر ساعت:

(ب) سرعت متوسط خودرو بر حسب کیلومتر بر ساعت:

۱/۵

۱۶

اتومبیلی به جرم ۶۰۰ کیلوگرم تحت تاثیر نیروی پیش ران موتورش با شتاب ۵ نیوتون بر کیلوگرم در جاده ای در حرکت می باشد نیروی خالص وارد بر اتومبیل را به دست آورید. (از نیروی اصطکاک صرف نظر شود)



۰/۷۵

۱۵

جمع نمره



آزمون نوبت اول سال تحصیلی ۱۴۰۱-۱۴۰۲

پایه نهم دوره اول متوسط

نام و نام خانوادگی :

شماره دانش آموزی :

تاریخ : ۱۴۰۱/۱۰/۲۸

زمان آزمون : ۶۰ دقیقه

دبیر : آقای رجایی

محدوده آزمون : درس ۱ تا آخر ۸

نام درس : فارسی

امضای دبیر		نمره آزمون :	
بارم	سوال	ردیف	
۰/۵	معنی و مفهوم شعر و نثر (۲/۵ نمره) ابیات و عبارات های زیر را معنی کنید . الف) به چشم بصیرت به خود درنگر تو را تا در آیین زنگار نیست	۱	
۰/۵	ب) دور گردون گر دو روزی بر مراد ما نرفت دائماً یکسان نباشد حال دوران غم مخور		
۰/۵	ج) همه یکدلانند ، یزدان شناس به نیکی ندارند از بد ، هراس		
۰/۵	د) هر که با بدان نشیند اگر نیز طبیعت ایشان در او اثر نکند به طریقت ایشان متهم گردد .		
۰/۵	ه) در محاوراتی که به حضور او میان دو کس رود خوض نماید و اگر از او پوشیده دارند استراق سمع نکند .		
۰/۲۵	معنی واژگان (۱ نمره) معنی واژه های مشخص شده زیر را بنویسید . الف) بدان هر چه در وجود است همه صنع خدای تعالی است . ()	۲	
۰/۲۵	ب) تنهایی یکی از سنگین ترین مصائب است . ()		
۰/۲۵	ج) تو را ای کهن ، بوم و بر دوست دارم . ()		
۰/۲۵	د) کلبه احزان شود روزی گلستان غم مخور . ()		
۱	درک مطلب (۲ نمره) الف) درک و دریافت خود از عبارت «گوهر تن از گوهر اصل بهتر بود.» بنویسید .	۳	
۱	ب) درک و دریافت خویش را از بیت زیر بنویسید . «میچ از ره راست بر راه کج چو در هست ، حاجت به دیوار نیست»		

ردیف	سوال	بارم
۴	دانش زبانی (۱/۵) زمان و نوع فعل را در جمله های زیر مشخص کنید و بنویسید . الف) اینک دارم برای شما نامهٔ محبت آمیز می نویسم . ب) حافظ به ما شیوهٔ درست نگاه کردن به زندگی را می آموزد .	۱ ۰/۵
۵	دانش ادبی (۱ نمره) الف) تخلص ، مانند امضا و نشان است که در شعر می آورند . ب) با ذکر دلیل گونهٔ پرسش زیر را بنویسید . «که تواند که دهد میوهٔ الوان از چوب ؟ یا که داند که برآرد گل صد برگ از خار ؟»	۰/۵ ۰/۵
۶	بیت زیر چند جمله دارد ؟ مشخص کنید . «هان مشو نومید چون واقف نه ای از سرّ غیب باشد اندر پرده بازی های پنهان ، غم مخور»	۱
۷	آرایه های ادبی را در بیت زیر مشخص کنید و بنویسید . (۴ مورد کافیهست) «تا کی آخر چو بنفشه سر غفلت در پیش ؟ حیف باشد که تو در خوابی و نرگس بیدار»	۱



آزمون نوبت اول سال تحصیلی ۱۴۰۲-۱۴۰۱

پایه نهم دوره اول متوسط

نام و نام خانوادگی :

شماره دانش آموزی :

تاریخ: ۱۴۰۱/۱۰/۲۰

زمان آزمون: ۴۰ دقیقه

دبیر: آقای فلسفی

محدوده آزمون: صفحه ۱۴ الی صفحه ۶۲

نام درس: قرآن

بارم	سوال	ردیف																
۱	<p>معنای کلمات زیر را از داخل دایره پیدا کنید و مقابل آن بنویسید. (یک مورد اضافی است)</p> <p>صَدَّوْا : خالدین :</p> <p>نجم : نُذْر :</p> <p>جاودان هشدارها علف ستاره مانع شدند</p>	۱																
۲	<p>ترکیب های زیر را معنا کنید.</p> <p>الف) وَ لَقَدْ يَسْرَنَّا الْقُرْآنَ :</p> <p>ب) يَسْجُدَانِ :</p> <p>ج) أَضَلَّ أَعْمَالَهُمْ :</p> <p>د) وَ أَجَلٍ مُّسْمًى :</p>	۲																
۱/۵	<p>کلمات ستون الف را به ترجمه آن در ستون ب وصل نمایید. (یک ترجمه اضافی است)</p> <table border="0" style="width: 100%;"> <tr> <td style="text-align: center;">الف</td> <td style="text-align: center;">ب</td> </tr> <tr> <td style="text-align: center;">• لَعَلَّ</td> <td style="text-align: center;">• پیامبر</td> </tr> <tr> <td style="text-align: center;">• مُرْسِل</td> <td style="text-align: center;">• شاید</td> </tr> <tr> <td style="text-align: center;">• عَسَى</td> <td style="text-align: center;">• پند گیرنده</td> </tr> <tr> <td style="text-align: center;">• مَدَّكْر</td> <td style="text-align: center;">• فرستنده</td> </tr> <tr> <td style="text-align: center;">• رَفَعَ</td> <td style="text-align: center;">• برافراشت</td> </tr> <tr> <td style="text-align: center;">• عَلَّمَ</td> <td style="text-align: center;">• شاید</td> </tr> <tr> <td></td> <td style="text-align: center;">• آموخت</td> </tr> </table>	الف	ب	• لَعَلَّ	• پیامبر	• مُرْسِل	• شاید	• عَسَى	• پند گیرنده	• مَدَّكْر	• فرستنده	• رَفَعَ	• برافراشت	• عَلَّمَ	• شاید		• آموخت	۳
الف	ب																	
• لَعَلَّ	• پیامبر																	
• مُرْسِل	• شاید																	
• عَسَى	• پند گیرنده																	
• مَدَّكْر	• فرستنده																	
• رَفَعَ	• برافراشت																	
• عَلَّمَ	• شاید																	
	• آموخت																	
۰/۵	<p>در کدام سوره قرآن کریم مسائل ارزشمند اخلاقی بیان شده است ؟</p> <p>الف) دُخَان (ب) أَحْقَاف (ج) حَجَرَات (د) آلرَحْمَن</p>	۴																
۰/۵	<p>در کدام عبارت قرآنی کلمه ی (مِنْ) معنا می شود ؟</p> <p>الف) وَ مِنْ آيَاتِهِ (ب) وَ لَا نَسَاءَ مِنْ نَسَاءَ (ج) وَ مِنْ كُلِّ شَيْءٍ (د) حِجَارَةٍ مِنْ طِينٍ</p>	۵																

ردیف	سوال	بارم
۶	معنای دقیق ترکیب قرآنی «أَمَّا الْمُؤْمِنُونَ أَخُوَّةٌ» کدام است ؟ الف) قطعاً مومنان ، با هم برادرند ب) مومنان فقط با هم برادرند ج) قطعاً ما مومنان با هم برادریم د) مومنان ، قطعاً با هم برادرند	۰/۵
۷	در عبارت قرآنی «وَفِي أَمْوَالِهِمْ حَقٌّ لِّلسَّائِلِ وَالْمَحْرُومِ» کدام کلمه غلط معنا شده است ؟ «در مالهایشان حقی است برای نیازمند و محروم» الف) سائل ب) محروم ج) حق د) اموال	۰/۵
۸	جملات زیر را با کلمات مناسب کامل کنید . الف) «ز» به حالت معمولی ولی «ذ» به حالت تلفظ می شوند . ب) که معمولاً در آخر آن می آید جای بسیار مناسبی برای وقف است . ج) اگر فتحه در کلماتی مانند «قَالَ ، كَانْ» کشیده خوانده شود در لحن عربی فعل به فعل تبدیل می شود.	۱/۵
۹	آیات و عبارات قرآنی زیر را معنا کنید . الف) وَ فِي الْأَرْضِ آيَاتٌ لِّلْمُوقِنِينَ ب) الَّذِينَ كَفَرُوا وَ صَدَّوْا عَن سَبِيلِ اللَّهِ أَضَلَّ أَعْمَالَهُمْ	۲

صفحه ۲ از ۲

مجموع

نمره کتبی

نمره شفاهی

موفق باشید .



آزمون نوبت اول سال تحصیلی ۱۴۰۲-۱۴۰۱

پایه نهم دوره اول متوسط

نام و نام خانوادگی :

شماره دانش آموزی :

تاریخ : ۱۴۰۱/۱۰/۰۷

زمان آزمون : ۶۰ دقیقه

دبیر : آقای عسگری

محدوده آزمون : درس ۱ تا آخر درس ۱۲

نام درس : مطالعات اجتماعی

امضای دبیر		نمره آزمون :	
بارم	سوال	ردیف	
۰/۵	جاهای خالی را کامل کنید : فاصله هر نقطه تا نصف النهار مبدا را می نامند .	الف	۱
۰/۵	مبنای ساعت واقعی موقعیت است .		۲
۰/۵	همزمان با آغاز حکومت زندیه سلطه انگلستان بر آغاز شد .		۳
۰/۵	کریم خان به جای عنوان شاه لقب یعنی نماینده مردم را برای خود برگزید .		۴
۰/۵	از جا به جایی هوا از منطقه پر فشار به منطقه کم فشار به وجود می آید .		۵
۰/۵	جملات صحیح را با (ص) و غلط با (غ) مشخص کنید : به سرزمین های نسبتاً هموار اما مرتفع که از اطراف به سرزمین های کم ارتفاع و پست منتهی می شود فلات می گویند .	ب	۱
۰/۵	درخت بانوباب از گونه های مشهور جنگل های بارانی استوایی می باشد .		۲
۰/۵	به بخش خارجی زمین که حالت جامد دارد سنگ کره یا هیدروسفر گفته می شود .		۳
۰/۵	اولین مدارس به سبک اروپائی توسط میرزا حسن رشدیه تاسیس شد .		۴
۰/۵	کشور هایی چون سوریه و کویت به دلیل بحران های سیاسی ، رشد اقتصادی مطلوبی نداشتند .		۵
۰/۵	گزینه صحیح را مشخص نمایید: تقریباً تمام جنگل های کشور کانادا را این ناحیه پوشانده است ؟	پ	۱
۰/۵	الف (ساوان) <input type="checkbox"/> ب (توندرا) <input type="checkbox"/> ج (تایگا) <input type="checkbox"/> د (جنگل های بارانی استوایی) <input type="checkbox"/>		
۰/۵	قرن شانزدهم تا نوزدهم در تاریخ اروپا را چه می نامند ؟		۲
۰/۵	الف (قرون قدیم) <input type="checkbox"/> ب (قرون معاصر) <input type="checkbox"/> ج (قرون وسطی) <input type="checkbox"/> د (قرون جدید) <input type="checkbox"/>		
۰/۵	مهاجرت کارگران فصلی چه نوع مهاجرتی است ؟		۳
۰/۵	الف (مهاجرت موقت) <input type="checkbox"/> ب (مهاجرت اجباری) <input type="checkbox"/> ج (مهاجرت دائمی) <input type="checkbox"/> د (مهاجرت روزانه) <input type="checkbox"/>		
۰/۵	کدام یک از موارد زیر از عوامل جذب جمعیت است ؟		۴
۰/۵	الف (نواحی گرم و خشک) <input type="checkbox"/> ب (نواحی سرد) <input type="checkbox"/> ج (نواحی بیابانی) <input type="checkbox"/> د (نواحی معتدل) <input type="checkbox"/>		
۰/۵	در انقلاب زمستانی خورشید به کدام مدار عمود می تابد ؟		۵
۰/۵	الف (رأس السرطان) <input type="checkbox"/> ب (رأس الجدی) <input type="checkbox"/> ج (خط استوا) <input type="checkbox"/> د (مدار قطب شمال) <input type="checkbox"/>		

ردیف	سوال	بارم
	به سوالات زیر پاسخ کوتاه دهید:	
۱	از بین بردن کامل جنگل های یک ناحیه را چه می نامند؟	۰/۵
۲	مهم ترین طرفداران خاندان صفوی را چه کسانی تشکیل می دادند؟	۰/۵
۳	از ساحل تا عمق ۲۰۰ متری آب دریا ها و اقیانوس ها را چه می نامند؟	۰/۵
۴	در دوره صفوی به سبب کم توجهی پادشاهان کدام رشته مانند سایر رشته ها پر رونق نبود؟	۰/۵
۵	در دوره عباس میرزا اولین دانشجویان برای فراگیری علوم و فنون به کدام کشور فرستاده شدند؟	۰/۵
	به سوالات زیر پاسخ کامل دهید:	
۱	چند مورد از اقدامات شاه اسماعیل صفوی را نام ببرید؟	۱
۲	عوامل رونق تجارت در زمان صفویان چه بود؟	۱
۳	عهد نامه گلستان بین چه کشور هایی بسته شد و مفاد آن چه بود؟	۱
۴	اعتدالین چیست توضیح دهید؟	۱
۵	مدار و نصف النهار چه تفاوت هایی با هم دارند؟	۱
۶	چند مورد از ویژگی های ناحیه توندر را بنویسید؟	۱
۷	اهمیت و ارزش جنگل های بارانی استوائی چیست؟	۱
۸	عوامل داخلی نابرابری جهانی را ذکر کنید؟ (۳ مورد)	۱/۵
۹	ارتفاع شهری ۱۲۰۰ متر است و کوه مجاور در ارتفاع ۴۷۰۰ متری است. اگر دما در این شهر ۵ درجه باشد، دما در بالای کوه چند است؟ (با راه حل)	۱/۵