



آزمون نوبت اول سال تحصیلی ۱۴۰۲-۱۴۰۱

پایه هفتم دوره اول متوسطه

نام و نام خانوادگی :

کلاس :

زمان آزمون : به اندازه تقریر تاریخ : ۱۴۰۱/۱۰/۲۵

دبیر : جناب آقای عبادی

نام درس : املای فارسی محدوده آزمون :

بی نام تو نامه کی کنم باز

ای نام تو بهترین سر آغاز

من با غرور و خشنودی ، باغ و صحرا را تماشا می کردم و در درخت ها و بوته ها می نگریستم . گویی با هر

یک از آنان آشنایی دیرینه دارم و با همه ساقه های سرسبز ، رفیق و خویشاوندم .

متخصصان و دانشمندان جهانی مجبور شده اند اعتراف کنند که جوانان ما با پشتوانه ایمان و همت و غیرت ،

توانسته اند استعداد جوشان و پنهان خود را آشکار کنند

کتاب پر راز و رمز آفرینش و شگفتی های طبیعت ، سرشار از درس ها و اندرز هاست . اگر نیروی جوانی و

شادابی این دوره را با تأمل ، تفکر و بصیرت همراه کنیم به شکوفایی خواهیم رسید .

می گویند : قدر وقت را بدانید و دقایق گران بها را بیهوده از دست مدهید . مقصود این نیست که دائماً در

کوشش و اضطراب باشید و راحت و آرام بر خود حرام کنید .



آزمون نوبت اول سال تحصیلی ۱۴۰۲-۱۴۰۱

پایه هفتم دوره اول متوسطه

نام و نام خانوادگی :

کلاس :

تاریخ : ۱۴۰۱/۱۰/۲۵

زمان آزمون : ۲۵ دقیقه

دبیر : جناب آقای عبادی

نام درس : املا فارسی محدوده آزمون :

دانش آموزان گرامی، در متن زیر، تعداد ۲۰ غلط املائی وجود دارد. آنها را پیدا کرده و شکل درست شان را در پاسخ نامه بنویسید.

چند تذکر:

– آوردن یا نیاوردن تشدید، همزه، سر هم یا جدانویسی غلط املائی به حساب نمی آید.

– در پاسخ نامه، فقط نوشتن شکل درست لغت (البته به ترتیب) کافی است.

▪ ای نام تو بهترین سرآغاز بی نام تو نامه کی کنم باز

▪ من با قرور و خوشنودی ، باغ و سحرا را تماشا می کردم و در درخت ها و بوته ها می نگریستم . گویی با هر

یک از آنان آشنایی دیرینه دارم و با همه ساغه های سرسبز ، رفیغ و خیشاوندم .

▪ متخصصان و دانشمندان جهانی مجبور شده اند اتراف کنند که جوانان ما با پشتوانه ایمان و حمت و قیرت،


توانسته اند استداد جوشان و پنهان خود را آشکار کنند

▪ کتاب پر راز و رمز آفرینش و شگفتی های طبیعت ، سرشار از درس ها و اندرز هاست . اگر نیروی جوانی و

شادابی این دوره را با تعمل ، تفکر و بسیرت همراه کنیم به شکوفایی خواهیم رسید .

▪ می گویند : غدر وقت را بدانید و دقایغ گران بها را بیهوده از دست مدهید . مقصود این نیست که دائم در

کوشش و اضطراب باشید و راحت و آرام بر خود حرام کنید .





آزمون نوبت اول سال تحصیلی ۱۴۰۱-۱۴۰۲

پایه هفتم دوره اول متوسطه

نام و نام خانوادگی :

کلاس :

تاریخ : ۱۴۰۱/۱۱/۰۱

زمان آزمون : ۶۰ دقیقه

دبیر : آقای ویسه

محدوده آزمون : صفحه ۱ تا صفحه ۹۳

نام درس : پیام های آسمان

امضای دبیر		نمره آزمون :	
بارم	سوال	ردیف	
۲	<p>تستی :</p> <p>۱- یکی از ساده ترین و مهم ترین راه ها برای جلب یاری خداوند کدام است ؟</p> <p>الف) روزه ب) صبر ج) دعا د) فداکاری</p> <p>۲- پیامبر (ص) درباره کدام گزینه زیر فرمود : «مایه شادمانی قلب من است.»</p> <p>الف) حضرت فاطمه (س) ب) حضرت علی (ع) ج) محبت کردن د) بخشش و گذشت</p> <p>۳- این آیه مبارکه با کدام گزینه هماهنگ است ؟ «هو معکم این ما کنتم»</p> <p>الف) همراهی خدا با انسان ب) اخلاق نیک پیامبر (ص)</p> <p>ج) فداکاری امام علی (ع) د) شکر گزاری کردن</p> <p>۴- در داستان زیرک، هر کدام از موارد نام برده به ترتیب ؛ شبیه چه چیزی در زندگی واقعی ما می باشد ؟</p> <p>«جزیره - پیرمرد دلسوز و دانا»</p> <p>الف) دنیا - اعمال ما ب) آخرت - پیامبر ج) اعمال ما - دنیا د) پیامبر - آخرت</p>	الف	
۲	<p>صحيح يا غلط را با «ص» یا «غ» مشخص کنید :</p> <p>۵- حضرت فاطمه (س) به فرموده پیامبر (ص) سرور همه زنان عالم است .</p> <p>۶- حضرت علی (ع) حکومت را به خاطر ایجاد «عدالت» پذیرفت .</p> <p>۷- مطابق حدیث پیامبر (ص) : کسی که در امانت خیانت کند ، اگر بمیرد بر دین حضرت محمد نمرده است .</p> <p>۸- پیامبر اکرم (ص) دارای همه ویژگی های اخلاقی پیامبران گذشته است .</p> <p>صحيح <input type="checkbox"/> غلط <input type="checkbox"/></p> <p>صحيح <input type="checkbox"/> غلط <input type="checkbox"/></p> <p>صحيح <input type="checkbox"/> غلط <input type="checkbox"/></p> <p>صحيح <input type="checkbox"/> غلط <input type="checkbox"/></p>	ب	
۰/۵	<p>پاسخ کوتاه دهید .</p> <p>۹- هر نوع کمک به دیگران در راه خداوند را چه می گویند ؟</p> <p>۱۰- دو مورد از نتایج شکر گزاری را بنویسید .</p> <p>۱۱- مرد مسیحی که زره حضرت علی (ع) را برداشته بود ، چگونه به حقانیت دین اسلام پی برد و مسلمان شد ؟</p> <p>۱۲- دو راه بهره مندی از یاری خداوند که در این آیه مبارکه آمده را بنویسید .</p> <p>«بلى ان تصبروا و اتقوا و یاتوكم من قورهم هذا یمددکم ربکم بخمسة آلاف من الملائكة مسومین»</p>	ج	۰/۵ ۱ ۰/۵ ۱
۱	<p>پاسخ کامل دهید .</p> <p>۱۳- با استفاده از چند کلمه زیر ، حدیث پیامبر (ص) را حدس زده و به صورت <u>کامل</u> و مرتب بنویسید .</p> <p>«هیچ مسلمانی - روز قیامت - دعایش - مستجاب می شود - بخشی از گناهانش - ذخیره می کند»</p>	د	۱

ردیف	سوال	بارم
	۱۴- سه مورد از علاقه های شدید حضرت محمد (ص) به فاطمه زهرا سلام الله علیها را بنویسید .	۱/۵
	۱۵- حدیث حضرت محمد (ص) درباره عزت نفس را بنویسید .	۱
	۱۶- آیه ای که درباره شکر گزاری می باشد را به عربی قرآنی و ترجمه فارسی بنویسید .	۲
	۱۷- ازدواج حضرت زهرا (س) با حضرت علی (ع) چگونه ساده زیستی آن بانوی بزرگوار را نشان می دهد؟	۱
	۱۸- آیه مبارکه «وَمِنَ النَّاسِ مَن يَشْرِي نَفْسَهُ ابْتِغَاءَ مَرْضَاتِ اللَّهِ وَاللَّهُ رَئُوفٌ بِالْعِبَادِ» : الف) درباره چه انسانی است ؟ ب) چه ویژگی از ایشان را می ستاید ؟ ج) در چه زمانی آیه نازل شده است ؟	۱/۵
	۱۹- دو مورد از فداکاری های حضرت علی را توضیح دهید .	۲
	۲۰- دو مورد از تحولات روحی و شخصیتی که در دوران بلوغ وجود دارد را بنویسید .	۱
هـ	<p>جور کردنی :</p> <p>هر کدام از عبارات سمت راست را به گزینه مربوط در سمت چپ مرتبط نمایید . (یک گزینه اضافی است).</p> <p>۲۰- بد اخلاقی با خانواده موجب فشار قبر می شود •</p> <p>۲۱- وَ مَا أَرْسَلْنَاكَ إِلَّا رَحْمَةً لِّلْعَالَمِينَ •</p> <p>۲۲- پیوند محکم داشتن با بستگان و بسیار خوش رفتار و مهربانی با پدر و مادر •</p> <p>۲۳- لَنْ تَنَالُوا الْبِرَّ حَتَّى تُنْفِقُوا مِمَّا تَحِبُّونَ •</p>	<p>الف) رحمت برای جهانیان</p> <p>ب) ایثار و بخشنده گی</p> <p>ج) آسان شدن دشواری های مرگ</p> <p>د) سعد بن معاذ</p> <p>هـ) سرانجام کافران</p>



آزمون نوبت اول سال تحصیلی ۱۴۰۲-۱۴۰۱

پایه هفتم دوره اول متوسطه

نام و نام خانوادگی :

کلاس :

نام درس : تفکر و سبک زندگی محدودده آزمون : کادر های سبز از اول کتاب تا صفحه ۵۵ دبیر : آقای ویسه زمان آزمون : ۲۰ دقیقه تاریخ : ۱۴۰۱/۱۰/۲۰

امضای دبیر		نمره آزمون :	
بارم	سوال	ردیف	
۰/۵	الف) تستی : برنامه ریزی یعنی انجام تعدادی فعالیت های برای رسیدن به اهداف مورد نظر . الف) حساب شده <input type="checkbox"/> ب) زیاد <input type="checkbox"/> ج) محدود <input type="checkbox"/> د) طولانی <input type="checkbox"/>	۱	
۰/۵	مجموعه ای از ویژگی های جسمانی ، عاطفی ، اعتقادی ، اخلاقی و عقلانی یک فرد که موجب الف) تفاوت او با دیگران می شود را هویت فردی می گویند <input type="checkbox"/> ب) شبیه شدن او با دیگران می شود را هویت فردی می گویند <input type="checkbox"/> ج) رشد انسان می شود را خود آگاهی می گویند <input type="checkbox"/> د) ضعف انسان می شود را خود آگاهی می گویند <input type="checkbox"/>	۲	
۰/۵	ب) پاسخ کوتاه دهید : به روش ها و شیوه هایی که انسان ها در موقعیت های مختلف در ارتباط با دیگران از خود نشان می دهند چه می گویند؟	۳	
۱/۵	ج) پاسخ کامل دهید . اهداف سه دسته اند . آن ها را نام ببرید .	۴	
۲	سبک زندگی را انسان ممکن است بر اساس چه چیز هایی انتخاب کند ؟ به عبارت دیگر چه چیز هایی ممکن است بر سبک زندگی تأثیر بگذارند ؟ (۴ مورد را نام ببرید)	۵	



آزمون نوبت اول سال تحصیلی ۱۴۰۲-۱۴۰۱

نام و نام خانوادگی:

پایه هفتم دوره اول متوسطه

کلاس:

تاریخ: ۱۴۰۱/۱۰/۱۷


زمان آزمون: ۹۰ دقیقه

دبیر: آقای وکیلی



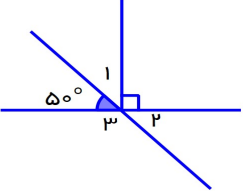
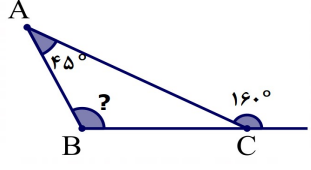
محدوده آزمون: فصل ۱ تا ۵

نام درس: ریاضی

امضای دبیر		نمره آزمون:	
بارم	سوال	ردیف	
۱/۵	<p>درستی یا نادرستی عبارت های زیر را مشخص کنید.</p> <p>الف) همه اعداد اول فرد هستند.</p> <p>ب) جمله $4x$ با $2x$ متشابه است.</p> <p>ج) حاصل ضرب دو عدد منفی، عددی مثبت است.</p> <p>د) از دو نقطه بی شمار خط راست می گذرد.</p> <p>ه) دو زاویه متقابل به رأس مساوی هستند.</p> <p>و) تمام عددها شمارنده اول دارند.</p>	۱	
۱/۵	<p>جاهای خالی را کامل کنید.</p> <p>الف) عبارت کلامی (پنج واحد کمتر از دو برابر عددی) به صورت جبری برابر است با</p> <p>ب) اندازه زاویه ای 25° درجه است اندازه زاویه متمم آن برابر است با</p> <p>ج) در عبارت $5xy -$ به ضریب عددی می گوئیم.</p> <p>د) حاصل جمع هر عدد با قرینه اش برابر با می شود.</p> <p>ه) عدد شمارنده ی هر عددی است.</p> <p>و) قرینه ی قرینه ی $(+7)$ برابر است با</p>	۲	
۱/۵	<p>گزینه ی صحیح را انتخاب کنید.</p> <p>(A) کدام یک از شکل های زیر منتظم است؟</p> <p>الف) مربع <input type="checkbox"/> ب) لوزی <input type="checkbox"/> ج) مستطیل <input type="checkbox"/> د) مثلث متساوی الساقین <input type="checkbox"/></p> <p>(B) جمله دوازدهم الگوی عددی مقابل کدام است؟</p> <p>الف) 40 <input type="checkbox"/> ب) 36 <input type="checkbox"/> ج) 34 <input type="checkbox"/> د) 38 <input type="checkbox"/></p> <p>(C) در کدام تبدیل هندسی جهت شکل تغییر نمی کند؟</p> <p>الف) انتقال <input type="checkbox"/> ب) دوران 180° درجه <input type="checkbox"/> ج) تقارن <input type="checkbox"/> د) دوران 90° درجه <input type="checkbox"/></p>	۳	

ردیف	سوال	بارم								
	<p>(D) محیط شکل مقابل به صورت جبری کدام است؟</p> <p>الف) $2b + a$ <input type="checkbox"/> ب) $4b + 2a$ <input type="checkbox"/></p> <p>ج) $4a + 2b$ <input type="checkbox"/> د) $6ab$ <input type="checkbox"/></p> <p>(E) شمارنده های اول ۲۸ کدامند؟</p> <p>الف) ۲ و ۷ <input type="checkbox"/> ب) ۳ و ۷ <input type="checkbox"/> ج) ۲ و ۳ و ۷ <input type="checkbox"/> د) ۲ و ۳ <input type="checkbox"/></p> <p>(F) کدام یک از اعداد زیر از بقیه کوچکتر است؟</p> <p>الف) ۱ <input type="checkbox"/> ب) صفر <input type="checkbox"/> ج) -22 <input type="checkbox"/> د) -2 <input type="checkbox"/></p>	<p style="text-align: center;">$2b$</p> <p style="text-align: center;"></p>								
۴	دمای هوای تبریز ۱۲ درجه زیر صفر است. هوای شهر قم ۸ درجه گرم تر از شهر تبریز است. دمای هوای قم چند درجه است؟	۰/۵								
۵	حاصل عبارت های زیر را بدست آورید.	۰/۵								
	$-۲ - ۵ + ۸ - ۳ =$ $[۳۰ \div (-۶)] \times (-۵ - ۷) =$	۱								
۶	الف) جمله n ام الگوی عددی زیر را بنویسید. جمله شصتم این الگو چند است؟	۰/۵								
	<p>... و ۱۳ و ۱۱ و ۹ و ۷</p> <p>ب) عبارت جبری زیر را ساده کنید.</p> $۵(۳x - ۴y - ۶) - ۳(۵x + ۱۰y - ۳) =$ <p>ج) مقدار عددی عبارت جبری زیر را به ازای مقادیر داده شده برای X بدست آورید.</p>	۱								
	<table style="margin-left: auto; margin-right: auto;"> <tr> <td style="border-right: 1px solid black; padding: 5px;">x</td> <td style="padding: 5px;">-۳</td> <td style="padding: 5px;">۰</td> <td style="padding: 5px;">۵</td> </tr> <tr> <td style="border-right: 1px solid black; padding: 5px;">$۴x - ۶$</td> <td colspan="3"></td> </tr> </table> <p>د) معادله زیر را حل کنید.</p> $۳x - ۴ = -۲۴ + ۷x$	x	-۳	۰	۵	$۴x - ۶$				۰/۷۵
x	-۳	۰	۵							
$۴x - ۶$										
		۰/۵								
	ه) از ۵ برابر عددی ۹ واحد کم کرده ایم. حاصل برابر ۴۶ شده است. آن عدد را بدست آورید. (به وسیله معادله نویسی)	۰/۵								

ردیف	سوال	بارم
۷	الف) همه ی شمارنده های ۱۵ را بنویسید.	۱
	ب) شمارنده های اول ۹۱ را بنویسید.	۰/۵
	ج) ابتدا دو عدد زیر را به شمارنده های اول تجزیه کنید، سپس ب.م.م. و ک.م.م آنها را به دست آورید.	۱/۵
	۴۰ =	
	۷۲ =	
	(۶۰ و ۷۲) =	
	[۶۰ و ۷۲] =	
	د) مجموع دو عدد اول ۴۵ می باشد. آن دو عدد را بدست آورید.	۰/۵
	ه) عدد ۱۴۳ اول است یا مرکب؟ چرا؟	۰/۵

۸	الف) در شکل مقابل چند نیم خط و چند پاره خط وجود دارد؟	۰/۵
		
	تعداد پاره خط ها = تعداد نیم خط ها =	
	ب) پاره خط مقابل به ۳ قسمت مساوی تقسیم شده است. تساوی ها را کامل کنید.	۰/۵
		
	$AB + BC = \dots\dots\dots$ $AC = \dots\dots AD$	
	ج) با توجه به شکل اندازه زاویه های خواسته شده را بنویسید.	
		۰/۷۵
	$\hat{1} = \dots\dots$ $\hat{2} = \dots\dots$ $\hat{3} = \dots\dots$	
	د) در هر شکل اندازه های خواسته شده را بنویسید:	۰/۲۵
		
	$\hat{B} = \dots\dots\dots$	



آزمون نوبت اول سال تحصیلی ۱۴۰۱-۱۴۰۲

پایه: هفتم دوره اول متوسطه

نام و نام خانوادگی:

کلاس:

تاریخ: ۱۴۰۱/۱۰/۲۱

زمان آزمون: ۵۰ دقیقه

دبیر: جناب آقای قربانی

محدوده آزمون: درس ۱ تا ۴

نام درس: زبان انگلیسی

امضای دبیر		نمره آزمون:					
بارم	سوال	ردیف					
۱	Choose the odd words . ۱) Monday / Friday / Today / Sunday ۲) grandfather / aunt / sister / daughter	کلمه نا هماهنگ را مشخص کنید. (از لحاظ معنی یا گرامر)		A			
۲	Make question . ۳) - She's a dentist ۴) - Amiri , A-M-I-R-I	سوال بسازید.		B			
۳	unscramble and write . ۵) one / have / sisters / brother / and / I / two / ۶) birthday / July / is / mother's / in / . / her ۷) first / what / ? / your / please / name / is	مرتب کنید.		C			
۱	Choose the odd words (از لحاظ تلفظ حرفی که زیر آن خط کشیده شده است). ۸) wife / florist / policeman / fifty ۹) baker / date / farmer / eraser	کلمه نا هماهنگ را مشخص کنید.		D			
۱	Fill in the blanks . ۱۰) ten / eleven / / thirteen ۱۱) Monday / / Wednesday	جاهای خالی را با کلمات مناسب کامل کنید.		E			
۳	Put the words in the right column. (یک کلمه اضافی است). marker / painter / nine years old / daughter / friend / brown / April	کلمات داده شده را در ستون مناسب قرار دهید.		F			
		Age	Month	Family	Job	Classroom object	Color
		۱۲)	۱۳)	۱۴)	۱۵)	۱۶)	۱۷)

بارم	سوال	ردیف
۳	<p>Choose the best choice . مناسب ترین گزینه را انتخاب کنید .</p> <p>۱۸) He is my mother's brother . He's my</p> <p>a) aunt <input type="checkbox"/> b) grandfather<input type="checkbox"/> c) uncle<input type="checkbox"/> d) son<input type="checkbox"/></p> <p>۱۹) Who is that ? She's her sister .</p> <p>a) woman<input type="checkbox"/> b) boy<input type="checkbox"/> c) man<input type="checkbox"/> d) girls<input type="checkbox"/></p> <p>۲۰) April - May - - July</p> <p>a) October<input type="checkbox"/> b) February<input type="checkbox"/> c) March<input type="checkbox"/> d) June<input type="checkbox"/></p> <p>۲۱) My mother is a nurse and brother is a doctor .</p> <p>a) his<input type="checkbox"/> b) him<input type="checkbox"/> c) her<input type="checkbox"/> d) she<input type="checkbox"/></p> <p>۲۲) How old is ? He's forty .</p> <p>a) Miss. Bahrami<input type="checkbox"/> b) Mr. Elhami<input type="checkbox"/> c) Miss. Ahmadi<input type="checkbox"/> d) his aunt<input type="checkbox"/></p> <p>۲۳) is your birthday ? It's in November .</p> <p>a) What<input type="checkbox"/> b) When<input type="checkbox"/> c) Who<input type="checkbox"/> d) How<input type="checkbox"/></p>	G
۲	<p>Answer the questions . به سوالات زیر در مورد خودتان پاسخ کامل بدهید .</p> <p>۲۴) What's the month of your birth ?</p> <p>.....</p> <p>۲۵) How do you spell your last name ?</p> <p>.....</p>	H
۲	<p>Fill in the blanks . جاهای خالی را با دانش خودتان کامل کنید .</p> <p>۲۶) Nice to you .</p> <p>۲۷) I'm a teacher . What you ? I'm a teacher , too</p> <p>۲۸) Can I you ? yes , can I have my card ?</p> <p>۲۹) Say your one by one .</p>	I
۲	<p>Write the missing letters . جاهای خالی را با حروف مناسب کامل کنید .</p> <p>۳۰) pil_t</p> <p>۳۱) Th_rsday</p> <p>۳۲) ba_kpack</p> <p>۳۳) A_gust</p>	J



آزمون نوبت اول سال تحصیلی ۱۴۰۲-۱۴۰۱

پایه هفتم دوره اول متوسطه

نام و نام خانوادگی :

شماره دانش آموزی :

تاریخ : ۱۴۰۱/۱۰/۲۴

زمان آزمون : ۷۵ دقیقه

دبیر : آقای میرزائی

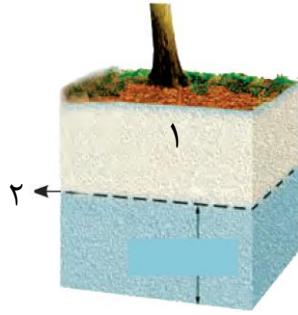
محدوده آزمون : فصل اول تا آخر فصل ۷

نام درس : علوم

امضای دبیر		نمره آزمون :	
بارم	سوال	ردیف	
۱	<p>درست یا نادرست بودن جمله های زیر را مشخص کنید .</p> <p>۱- افزایش پوشش گیاهی موجب افزایش میزان آب زیر زمینی می شود . <input type="radio"/> درست <input type="radio"/> نادرست</p> <p>۲- هرچه حجم یک جسم افزایش یابد ، چگالی آن کاهش می یابد . <input type="radio"/> درست <input type="radio"/> نادرست</p> <p>۳- به مقاومت یک ماده در برابر پاره شدن یا بریده شدن ، سختی می گویند . <input type="radio"/> درست <input type="radio"/> نادرست</p> <p>۴- فلزات به صورت عناصر اتمی یافت می شوند . <input type="radio"/> درست <input type="radio"/> نادرست</p>	A	
۱	<p>گزینه درست را انتخاب کنید .</p> <p>۱- کدام گزینه مولکول ۳ اتمی آب را نشان می دهد ؟ <input type="checkbox"/> الف) H_2O <input type="checkbox"/> ب) CH_4 <input type="checkbox"/> ج) CO_2 <input type="checkbox"/> د) CO</p> <p>۲- کدام دریاچه از باقیمانده دریای قدیمی به نام تتیس ایجاد شده است ؟ <input type="checkbox"/> الف) ارومیه <input type="checkbox"/> ب) خزر <input type="checkbox"/> ج) دریاچه غار علیصدر <input type="checkbox"/> د) سبلان</p> <p>۳- ماده اولیه بشقاب چینی و لیوان شیشه ای (به ترتیب از راست به چپ) است . <input type="checkbox"/> الف) ماسه - خاک رس <input type="checkbox"/> ب) خاک رس - ماسه <input type="checkbox"/> ج) خاک رس - خمیر شیشه <input type="checkbox"/> د) شن - خاک رس</p> <p>۴- اگر قطرات آب ، در مسیر پایین آمدن به سطح زمین از توده های سرد عبور کنند به تبدیل می شوند . <input type="checkbox"/> الف) برف <input type="checkbox"/> ب) باران <input type="checkbox"/> ج) مه <input type="checkbox"/> د) تگرگ</p>	B	
۱	<p>در جاهای خالی کلمه های مناسب قرار دهید .</p> <p>(مصرف دوباره - بازیافت - موج - سونامی - آهک - رس - علم - فناوری)</p> <p>۱- ساخت تلفن همراه و خودرو نمونه هایی از است .</p> <p>۲- برای افزایش استحکام خشت گلی به آن اضافه می کنند .</p> <p>۳- ذوب دوباره قوطی فلزی خراب در کارخانه و ایجاد شمش را می گویند .</p> <p>۴- به حرکت آب به سمت بالا و پایین گفته می شود .</p>	C	
۱	<p>به سوالات زیر پاسخ دهید .</p> <p>من چیستم :</p> <p>۱- نافلزی هستم که در کوره های ذوب آهن با گرما دادن سنگ معدن آهن اتم های اکسیژن را از سنگ معدن جدا می کنم . ←</p> <p>۲- پدیده ای هستم که بر اثر اختلاف ارتفاع در مسیر بعضی از رود ها ایجاد می شوم . ←</p>	D	

E

شکل زیر یک منبع آب زیر زمینی را نشان می دهد:



الف) موارد شماره گذاری شده را بنویسید.

۱-
۲-

ب) منطقه اشباع چیست؟

۱/۵

F

مفهوم علمی مناسب را جلوی عبارت های ستون سمت راست بنویسید.

(در ستون سمت چپ دو مورد اضافه نوشته شده)

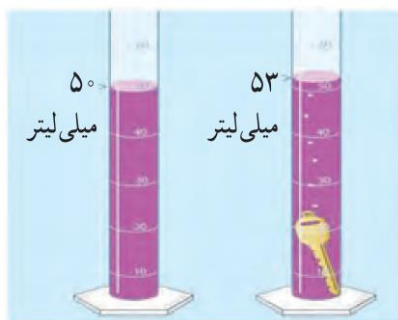
لیتر	۱- کوچکترین ذره ماده :
کنجکاو	۲- عنصر اتمی :
مهارت	۳- در اطراف هسته اتم قرار دارند :
نوترون	۴- یکای اندازه گیری حجم مایعات :
الکترون	۵- یکای اندازه گیری چگالی :
گرم بر سانتی متر	۶- از ویژگی انسان که باعث اکتشاف می شود :
فلز	
اتم	

G

سوالات تشریحی

۱

۱- دانش آموزی برای اندازه گیری چگالی یک کلید ابتدا جرم آن را با ترازو اندازه گیری کرد. (۱۲ گرم)، سپس حجم آن را با استفاده از استوانه مدرج و مقداری آب، اندازه گرفت. با توجه به اعداد روی شکل چگالی کلید را حساب کنید.



۱

۲- نیروسنج وزن جسمی را ۲ نیوتن نشان می دهد. جرم این جسم را بر حسب گرم و کیلوگرم حساب کنید.

(شتاب جاذبه = ۱۰)

ردیف	سوال	بارم
	۸- مفاهیم زیر را تعریف کنید . الف) حوضه آبریز : ب) قنات :	۱
	۹- توضیح دهید چرا گاز ها تراکم پذیر هستند ؟	۰/۵



آزمون نوبت اول سال تحصیلی ۱۴۰۲-۱۴۰۱

پایه هفتم دوره اول متوسطه

نام و نام خانوادگی :

کلاس :

تاریخ : ۱۴۰۱/۱۰/۲۸

زمان آزمون : ۶۰ دقیقه

دبیر : آقای تاجداری

محدوده آزمون :

نام درس : عربی

امضای دبیر		نمره آزمون :	
بارم	سوال	ردیف	
۱	<p>با توجه به تصاویر کلمه مربوط به هر یک را بنویسید . (یک کلمه اضافه است)</p> <p>(وَرْدَة - حَديقَة - سَيَّارة - مَنضَدَة - حَقِيبة)</p>	۱	
	   		
۱		۲	فقط کلمه مشخص شده را ترجمه کنید .
			الف) أُنْتُمَا حَاضِرَانِ ؟ نَعَمْ
			ب) الضُّيُوفُ فِي العُرْفَةِ
			ج) القَمِيصِ وَ السَّرْوَالِ فِي البَيْتِ
			د) أَيْنَ فُنْدُقُهُ ؟
۱		۳	مترادف را با = و متضاد را با ≠ مشخص کنید .
			(غالية ○ رَخِيصَة) (بُستان ○ حَديقَة) (خَلْفَ ○ وراء) (رجال ○ نِساء)
۱		۴	ترجمه درست را انتخاب کنید .
			الف) اولئك البنات جالساتٌ :
			۱) آن دخترانی که نشسته اند ○
			ب) أَيْنَ أُسْرَتِكَ ؟ جَنَبَ الشَّجَرَةِ :
			۱) خانواده کجا هستند ؟ کنار درختان . ○
			۲) آن دختران نشسته اند ○
			۱) خانواده کجا هستند ؟ کنار درختان . ○
۱		۵	کلمه پرسشی مناسب بنویسید .
			الف) حَالِكٌ ؟ أَنَا بِخَيْرٍ
			ب) أَنْتَ ؟ فِي الصَّفِّ
			ج) تَلِكِ الحَقِيبةِ ؟ لِهَذَا الرَّجُلِ
			د) جَوَازاً أَمَامَكَ ؟ ثَمَانِيَة
۱		۶	اسم اشاره مناسب بنویسید .
			الف) السَّفِينَةُ ، كَبِيرَةٌ . (دور)
			ب) الطَّالِبَةُ ، فَائِزَةٌ (نزدیک)
			ج) لِاعْبَتَانِ ، نَاجِحَتَانِ (نزدیک)
			د) الأُمَّهَاتِ فِي البَيْتِ (دور)

ردیف	سوال	بارم
۷	در جملات زیر مثنی و جمع سالم و مکسر را پیدا کرده و در جدول قرار دهید . الف) الطُّلابُ ، ناجحونَ فی مُسَابِقَتَیْنِ ب) هُوَلاءِ اللّاعِبَاتِ فی الصّف	۱
	مثنی	جمع سالم (مذکر ، مؤنث)
		جمع مکسر
		-
۸	به عربی پاسخ کوتاه دهید . الف) أَنْتَ مُدَرِّسٌ ؟ ب) مَا اسْمُكَ ؟ ج) كَمْ یَوْمًا آیامِ الاسبوعِ ؟ د) مِنْ أَيْنَ أَنْتَ ؟	۱
۹	جملات زیر را ترجمه کنید . الف) هُوَ الَّذِي خَلَقَ السَّمَاوَاتِ وَالْأَرْضِ فِي سِتَّةِ أَيَّامٍ . ب) أَفْضَلَ النَّاسِ أَنْفَعُهُمْ لِلنَّاسِ . ج) الْوَحْدَةُ خَيْرٌ مِنْ جَلِيسِ السَّوِّءِ . د) بَائِعُ الْحَقَائِبِ فِي الْقَرْيَةِ . هـ) لِذَلِكَ الْبَابُ ، تَسَعَةَ مَفَاتِيحٍ . و) عَلَيكُمْ بِالْإِحْسَانِ .	۴/۵
۱۰	گزینه مناسب را انتخاب کنید . الف) هَذَانِ فِي الْمَدِينَةِ . ب) مَنْ ؟ أَنَا مُدَرِّسَةٌ . ج) نَحْنُ الصّف . د) مَنْ ذَلِكَ الرَّجُلُ ؟ هـ) كَمْ شَهْرًا فِي السَّنَةِ ؟	۲/۵
	الوَكْدَتَانِ ○ الوَكْدَةُ ○ الْوَلْدَانِ ○ أَنْتِ ○ أَنَا ○ أَنْتَ ○ طالِبٌ ○ طالِبُونَ ○ طالِبَةٌ ○ أُمِّي ○ أُخْتُ مَرِيْمٍ ○ سَائِقُ السَّيَّارَةِ ○ سَبْعَةٌ ○ اثْنَا عَشَرَ ○ تِسْعَةٌ ○	



آزمون نوبت اول سال تحصیلی ۱۴۰۲-۱۴۰۱

نام و نام خانوادگی :

پایه هفتم دوره اول متوسطه

کلاس :

تاریخ : ۱۹ / ۱۰ / ۱۴۰۱

زمان آزمون : ۶۰ دقیقه

دبیر : آقای عبادی

محدوده آزمون : درس ۱ تا پایان درس ۸

نام درس : فارسی

امضای دبیر		نمره آزمون :	
ردیف	سوال	بارم	
۱	معنی واژگان مشخص شده را بنویسید . الف) غرقه شکوه و اعجاز زیبایی خلقت بودم . ← ب) این مایه افتخار برای ملت ماست . ← ج) دوره نوجوانی را با تأمل و تفکر و بصیرت همراه کنیم . ← د) فتاد از پای کرد از عجز فریاد . ←	۱	
۲	عبارات درست و نادرست را مشخص کنید . الف) فعل های «است» و «بود» از فعل های اسنادی می باشند . □ ب) متمم قبل از حرف اضافه می آید . □ ج) عبارت «امروز بچه ها کتاب مطالعه کردند.» مفعول ندارد . □ د) «عجز» و «عاجز» نسبت به هم هم آوا هستند . □	۱	
۳	جاهای خالی را پر کنید . الف) او در اینجا است . (قریب ، غریب) ب) هنگام سخن گفتن یا نوشتن برای انتقال پیام از استفاده می شود . ج) جمله ای که درخواست یا خواسته ای داشته باشد جمله است . د) کلمه ای است که انجام کاری یا داشتن حالتی به آن نسبت داده می شود .	۱	
۴	در بیت های زیر جاهای خالی را پر کنید . الف) ب) از خدا جویم توفیق ادب	۱	
۵	نویسندگان آثار زیر را از ستون (ب) انتخاب کنید و جلوی هر یک بنویسید . (دو مورد اضافی است) (ب) الف) هفت پیکر : ب) مثنوی معنوی : ج) کویر :	۰/۷۵	۱- گلشن آزادی ۲- دکتر علی شریعتی ۳- نظامی گنجوی ۴- نادر ابراهیمی ۵- مولوی



آزمون نوبت اول سال تحصیلی ۱۴۰۱-۱۴۰۲

پایه هفتم دوره اول متوسطه

نام و نام خانوادگی :

کلاس :

تاریخ : ۱۴۰۱/۱۰/۲۶

زمان آزمون : ۶۰ دقیقه

دبیر : آقای بهزادفر

محدوده آزمون : صفحه ۱ تا انتهای صفحه ۵۰

نام درس : قرآن

امضای دبیر		نمره آزمون :	
بارم	سوال	ردیف	
۰/۵	<p>صحيح يا غلط بودن ترجمه تركيبات زير را مشخص كنيد .</p> <p>الف) اِلَى رَبِّكُمْ ← از خداوندشان . <input type="radio"/> صحيح <input type="radio"/> غلط</p> <p>ب) اِنَّا اَنْزَلْنَاهُ ← قطعاً ما نازل كرديم آن را . <input type="radio"/> صحيح <input type="radio"/> غلط</p>	۱	
۲	<p>معنای هر کلمه را از میان کلمات زیر یافته و مقابل آن بنویسید . (توجه : یک کلمه اضافی است)</p> <p>«بیشتر - پاداش - توکل کن - دین یا آیین - نیکو کار - یک - وای بر - فرزند یا نسل - بسیار آمرزنده»</p> <p>آجر : تَوَكَّلَ : غفور : واحد : اکثر : وَيَلَّ : مُحْسِن : ذُرِّيَّة :</p>	۲	
۱	<p>هر یک از جملات ستون الف را به ترجمه مناسب در ستون ب وصل کنید یا شماره مربوط را در کمانک قرار دهید .</p> <p>۱- این از لطف و رحمت خداست من الظُّلُمَاتِ اِلَى النُّورِ . ()</p> <p>۲- موعظه و پندی از پروردگارتان بِسْمِ اللّٰهِ الرَّحْمٰنِ الرَّحِیْمِ . ()</p> <p>۳- به نام خداوند بخشنده مهربان ذٰلِكَ مِنْ فَضْلِ اللّٰهِ . ()</p> <p>۴- از تاریکی ها به سوی نور مَوْعِظَةٌ مِنْ رَبِّكُمْ . ()</p>	۳	
۱	<p>ترجمه ترکیب ها و آیات قرآنی زیر را کامل کنید .</p> <p>الف) اِنَّكَ اَنْتَ یٰوَسُّفُ ؟ آیا یوسف هستی !؟ ب) لِقَوْمٍ یَّعْقِلُوْنَ . برای که</p>	۴	
۲/۵	<p>ترکیب های زیر را به فارسی ترجمه کنید .</p> <p>الف) مُقِیْمَ الصَّلَاةِ : ب) فِی جَنّٰتٍ وَّ عِیُوْنٍ : ج) و النخیل و الاعناب : د) تَسْمِیْعُ الدَّعَاۗءِ : ه) اِنَّ فِی ذٰلِكَ لَآیَةً لِّقَوْمٍ یَّتَفَكَّرُوْنَ :</p>	۵	

بارم	سوال	ردیف
۲	<p>کلمات داده شده را مانند الگو، به جمع تبدیل کرده و معنا کنید .</p> <p>خالق : آفریننده ← خالقون : آفرینندگان .</p> <p>الف) مهاجر : ← :</p> <p>ب) محسن : ← :</p> <p>جَنَّة : بهشت ، باغ ← جَنَّات : بهشت ها ، باغ ها</p> <p>ج) مَمرَة : ← :</p> <p>د) مؤمنة : ← :</p>	۶
۱	<p>آیات زیر را ترجمه کنید .</p> <p>الف) وَ لِلّٰهِ غَيْبُ السَّمَاوَاتِ وَ الْأَرْضِ .</p> <p>.....</p> <p>ب) عَلَيْنَا وَ عَلَى النَّاسِ .</p> <p>.....</p>	۷



آزمون نوبت اول سال تحصیلی ۱۴۰۲-۱۴۰۱

پایه هفتم دوره اول متوسطه

نام و نام خانوادگی :

شماره دانش آموزی :

نام درس : مطالعات اجتماعی محدوده آزمون : درس ۱۲-۱۱ دبیر : آقای عسگری زمان آزمون : ۶۰ دقیقه تاریخ : ۱۴۰۱/۱۰/۰۷

امضای دبیر		نمره آزمون :	
بارم	سوال	ردیف	
۲/۵	جاهای خالی را با کلمات مناسب پر کنید : ۱- هرگاه مقررات به وسیله یک نهاد دارای صلاحیت تصویب شود نام به خود می گیرد . ۲- اگر پس از درک احساس و شرایط فرد حادثه دیده به کمک او بشتابیم با او کرده ایم . ۳- فعالیتی که بین تولید کننده و مصرف کننده رابطه برقرار می کند نام دارد . ۴- مسئول اجرای قوانین و مقررات محیط زیست در یک منطقه نام دارد . ۵- با ورود انسان به روابط اجتماعی میان او و دیگران برقرار می شود .	الف	
۲/۵	صحیح و غلط بودن جملات زیر را مشخص کنید : ۱- نظارت بر انتخابات ریاست جمهوری از وظایف شورای نگهبان است . ۲- بیمه سر نشین خودرو یک نوع بیمه اختیاری است . ۳- داشتن محبت و علاقه یک نوع نیاز غیر مادی (عاطفی) است . ۴- از مهم ترین عوامل تولید ، منابع طبیعی است . ۵- مسئولیت وظایفی است که ما بر عهده داریم و انتظار می رود آن را درست انجام دهیم .	ب	<p>○ غ ○ ص</p> <p>○ غ ○ ص</p> <p>○ غ ○ ص</p> <p>○ غ ○ ص</p> <p>○ غ ○ ص</p>
۲/۵	گزینه صحیح را انتخاب کنید : ۱- کدام یک از موارد زیر جزء وظایف سازمان هلال احمر نیست ؟ الف) حفاظت از محیط زیست و کمک به صلح □ ب) ارائه کمک های اولیه به مجروحان □ ج) استفاده از منابع طبیعی و تبدیل آن به کالا □ د) جمع آوری کمک های مردمی و رساندن آن به مصدومان حادثه □ ۲- مهم ترین پرسش جغرافیایی کدام است ؟ الف) چه موقع ؟ □ ب) کجا ؟ □ ج) چگونه ؟ □ د) چرا ؟ □ ۳- کوه های پراکنده و بلند در کدام قسمت ایران قرار دارد ؟ الف) شمال و شمال شرقی □ ب) جنوب و جنوب شرقی □ ج) مرکز و جنوب شرقی □ د) غرب و جنوب غربی □ ۴- اولین حقی که هر فرد باید در خانواده از آن برخوردار باشد ، کدام است ؟ الف) رفتن به مدرسه □ ب) تشکیل خانواده □ ج) آزاد بودن □ د) داشتن نام و نام خانوادگی □ ۵- وظیفه بیمه مرکزی چیست ؟ الف) قوانین و مقررات لازم را برای مؤسسات بیمه تدوین می کند □ ب) بر عملکرد بیمه ها نظارت دارد □ ج) کمک به سازمان هایی مانند هلال احمر □ د) گزینه اول و دوم صحیح است □	ج	

ردیف	سوال	بارم
د	<p>پاسخ کوتاه دهید :</p> <p>۱- زمستان های سرد و تابستان های معتدل از مشخصه کدام ناحیه آب و هوایی ایران است ؟</p> <p>۲- وسعت ایران چقدر است ؟</p> <p>۳- به تصویر افقی از سطح زمین که به نسبت مورد نیاز کوچک شده است چه می گویند ؟</p> <p>۴- کدام ناحیه از جلگه خوزستان تا بندر چابهار کشیده شده است ؟</p> <p>۵- به کسی که کالاها و خدمات را به منظور رفع نیاز های خود می خرد ، چه می گویند ؟</p>	۲/۵
هـ	<p>پاسخ کامل دهید :</p> <p>۱- چرا بیمه به وجود آمده است ؟</p>	۱
	<p>۲- سرمایه چیست ؟</p>	۱
	<p>۳- مصرف گرایی چیست با مثال توضیح دهید ؟</p>	۱
	<p>۴- کوهپایه را تعریف کنید ؟</p>	۱
	<p>۵- یک نماینده مجلس باید چه خصوصیتی داشته باشد ؟</p>	۱
	<p>۶- ویژگی های ناحیه معتدل و مرطوب خزری چیست ؟ (دو مورد)</p>	۱
	<p>۷- به طور کلی قانون و مقررات به چند دلیل به وجود آمده است ؟ (دو مورد)</p>	۱
	<p>۸- شکر گزاری یعنی چه ؟ مختصر توضیح دهید ؟</p>	۱/۵
	<p>۹- از مناطق حفاظت شده کشورمان سه منطقه را نام ببرید ؟</p>	۱/۵