



آزمون نوبت دوم سال تحصیلی ۱۴۰۱-۱۴۰۲

نام و نام خانوادگی :

پایه هفتم دوره اول متوسطه

کلاس :

نام درس : املا

دبیر : جناب آقای خوردچشم

زمان آزمون : به اندازه تقریر

تاریخ : ۱۴۰۲/۰۳/۱۷

نمره آزمون :		امضای دبیر
سوال	بارم	
<p>دشمنان تیره رای و خیره روی ما نیز به ناچار، این سرزمین را بدین نام سپند و ارجمند می نامند و ایرانیان را به پاس آزادگی شان، می ستایند. بدین سان برترین و گرامی ترین ارمغان ایران به دیگر سرزمین ها، اندیشه و خرد و فرهنگ بوده است .</p> <p>هیاهوی کلاغ ها سکوت باغ را می شکست. برف به آرامی می بارید. صدای کلاغ ها گوش محمد تقی را آزار می داد؛ صدای استاد را از پشت درهای بسته به سختی می شنید .</p> <p>در دوران جنگ تحمیلی، خیل عظیم نوجوانان و جوانان بسیجی و جان برکفان ارتشی و سپاهی، این پهنه خدایی را به بُنیانی استوار و سدی نفوذ ناپذیر و پایدار در برابر هجوم وحشیانه صدام و حامیان آمریکایی او تبدیل کرد .</p> <p>کارهایی که ما می کنیم، فقط مربوط به خودمان نیست؛ بلکه به آیندگان نیز ارتباط دارد. به این جهت اگر در انجام وظایف خود تعلل کنیم، حق آن ها را پایمال کرده ایم. وقت ما در سلسله کائنات جای مخصوص دارد و باید آن را برای کارهای مفید مصرف کنیم وگرنه نظام آفرینش را به هم زده ایم و خطای بزرگی مرتکب شده ایم .</p> <p>بر پایه آنچه گفته شد، ادبیات انقلاب، انقلابی است که در درونمایه و محتوای آثار و افکار پدید آمده است و عشق و شور و رادمردی و دین باوری و ایثار در آن موج می زند . ادبیات انقلاب، آیینۀ انقلاب است و گنجینه ای است که آرمان های انقلاب اسلامی را در خود جای داده است .</p> <p>موفق باشید</p>	۲۰	



آزمون نوبت دوم سال تحصیلی ۱۴۰۱-۱۴۰۲

نام و نام خانوادگی :

پایه، ششم دوره اول متوسطه

کلاس :


تاریخ : ۱۴۰۲/۰۳/۲۲

زمان آزمون : ۷۵ دقیقه

دبیر : جناب آقای رحیمی

نام درس : انشاء

امضای دبیر		نمره آزمون :	
بارم	سوال	ردیف	
۲۰	<p>یکی از موضوع های زیر را انتخاب کنید و درباره آن ها متنی بنویسید .</p> <p>۱- احساس یک قطره آب در رودخانه ای که به آبشار می رسد .</p> <p>۲- بهترین منظره ای که تا به حال در طبیعت دیده اید را توصیف کنید .</p> <p>۳- چرا گاهی اوقات احساس می کنیم که دیگران ما را درک نمی کنند ؟</p> <p>۴- زیبا ترین نعمت هایی که تا به حال از وجود آن ها در زندگی بی خبر بوده اید .</p>	۱	
<p>دانش آموزان عزیز در نوشتن انشا توجه به نکات زیر ضروری است :</p> <p>(۱) داشتن پیش نویس.</p> <p>(۲) داشتن پاک نویس (رعایت نشانه های نگارشی ، نداشتن غلط املائی ، توجه به درست نویسی).</p> <p>(۳) رعایت طبقه بندی ذهن و نوشته (مقدمه _ بدنه _ نتیجه).</p> <p>(۴) استفاده از جملات نو و خلاقانه .</p> <p>(۵) استفاده از آرایه های ادبی .</p> <p>(۶) ویراستاری و پاکیزه نویسی.</p>			





آزمون نوبت دوم سال تحصیلی ۱۴۰۱-۱۴۰۲

نام و نام خانوادگی :

پایه هشتم دوره اول متوسطه

کلاس :

تاریخ : ۱۴۰۲ / ۰۳ / ۲۰

زمان آزمون : ۶۰ دقیقه

دبیر : جناب آقای ویسه

نام درس : پیام های آسمان

امضای دبیر		نمره آزمون :	
بارم	سوال	ردیف	
۰/۵	الف) تستی : اصلی ترین موضوعی که اهل سنت و شیعیان با هم اختلاف دارند چیست ؟ الف) قیامت ب) خلافت پس از پیامبر ج) تفسیر آیات قرآن د) اختلاف های نژادی	۱	
۰/۵	جاهای خالی با کدام گزینه تکمیل می گردد ؟ «قُلْ يَا عِبَادِيَ الَّذِينَ عَلَىٰ أَنفُسِهِمْ مِنْ رَحْمَةِ اللَّهِ» الف) تقنطوا - لا تقنطوا ب) اسرفوا - لا تسرفوا ج) تقنطوا - لا تسرفوا د) اسرفوا - لا تقنطوا	۲	
۰/۵	نماز کدام یک صحیح است ؟ الف) آبتین قطره ای ادرار روی لباسش می بیند ولی چون کم است اهمیت نمی دهد و با همان نماز می خواند ب) رادین با انگشتر طلا نماز می خواند ج) آرتین دکمه لباسش غصبی است و نماز می خواند د) رامتین با کاپشنی از چرم گاو نماز می خواند	۳	
۰/۵	آیه مبارکه با کدام گزینه بیشتر مرتبط است ؟ «وَيَلِ لِلْمُطَفِّفِينَ الَّذِينَ إِذْ أَكْتَالُوا عَلَى النَّاسِ يَسْتَوْفُونَ ...» - ساسان در پخش مواد مخدر فعالیت می کند و از آن راه درآمد هنگفتی کسب می کند . - مراد ترازوی مغازه اش را طوری تنظیم کرده که ۷۵۰ گرم را برای مشتری یک کیلو نشان می دهد . - علیرضا کارمند است و اکثراً دیر به اداره می آید و سرکارش هم وظایفش را کامل انجام نمی دهد . الف) ساسان و مراد ب) مراد و علیرضا ج) فقط علیرضا د) ساسان و علیرضا	۴	
۰/۵	ب) جملات صحیح را با «ص» و جملات غلط را با «غ» مشخص کنید :		
۰/۵	آفرینش شگفت انگیز، راهی برای خداشناسی می باشد . ()	۵	
۰/۵	در غدیر خم علی بن ابی طالب (ع) به عنوان جانشین بعد از پیامبر (ص) معین گردید . ()	۶	
۰/۵	زشتی ها همگی در خانه ای جمع شده اند که کلید آن دروغ است . ()	۷	
۰/۵	کسی که در ماه رمضان اخلاقی را نیکو کند به آسانی از پل صراط خواهد گذشت . ()	۸	

ردیف	سوال	بارم
۹	(ج) پاسخ کوتاه دهید . طبق حدیث رسول اکرم (ص) چه چیزی به عنوان $\frac{۹}{۱۰}$ عبادت معرفی شده است ؟	۰/۵
۱۰	دو سرمایه گرانبها برای خوشبختی کدام است ؟	۰/۵
۱۱	چه کسانی از مد ها تأثیر پذیری بیشتری دارند ؟	۰/۵
۱۲	دو مورد از آثار پوشش نامناسب را نام ببرید .	۱
۱۳	(د) پاسخ کامل دهید : حق الله را تعریف کنید و برای آن دو مثال بزنید .	۲
۱۴	دو مثال برای رفتار های اسراف آمیز بنویسید .	۱
۱۵	سه مورد از وظایف و حقوق یک مسلمان را نسبت به برادران دینی اش طبق حدیث امام صادق (ع) را بیان کنید . (حق مسلمان بر مسلمان)	۱/۵
۱۶	حدیث امام صادق (ع) درباره اثر مهم نیایش را بنویسید .	۱/۵

ردیف	سوال	بارم
۱۷	عوامل هدر دادن عمر را نام ببرید . (سه مورد)	۱/۵
۱۸	با توجه به آیه نورانی زیر به سوالات خواسته شده پاسخ دهید . «وَلَا يَغْتَبِ بَعْضُكُم بَعْضًا أَيُّحِبُّ أَحَدُكُمْ أَنْ يَأْكُلَ لَحْمَ أَخِيهِ مَيْتًا فَكَرِهْتُمُوهُ وَاتَّقُوا اللَّهَ إِنَّ اللَّهَ تَوَّابٌ رَحِيمٌ» الف) آیه مبارکه درباره کدام یک از گناهان و آفات زبان صحبت می کند ؟ ب) کسی که آن گناه را انجام می دهد به انجام دادن چه کاری تشبیه شده است ؟ ج) در این آیه نورانی ترجمه یک صفت از خداوند که به آن وصف شده است را بنویسید .	۱/۵
۱۹	ه) جاهای خالی را پر کنید . خداوند حکیم را اولین معلم قرآن قرار داد .	۰/۵
۲۰	جهنمیان که به فرصت های از دست رفته فکر می کنند با خود می گویند : «ای کاش در دنیا با فلان شخص نمی شدیم . ای کاش اصلاً بودیم و امروز چنین حالی نداشتیم .	۰/۵
۲۱	پیامبر اکرم در غدیر خم به خداوند عرض کرد : «خدایا یاران علی را کن و با دشمنان علی باش.»	۱
۲۲ مهمترین عقاید همه مسلمانان است که به عنوان شعار اسلام می باشد .	۰/۵
۲۳	پیامبر اکرم (ص) : «صوموا » یعنی روزه بگیرید تا سالم بمانید .	۰/۵
۲۴	و) هر کدام از عبارات سمت راست را به گزینه مناسب در سمت چپ مرتبط کنید . (یک گزینه اضافی است) مصرف گرایی آثار بدی را برای یک جامعه در بر دارد .	۰/۵
۲۵	ثروتمندان با روزه گرفتن ، مزه گرسنگی را می چشند .	۰/۵
۲۶	کسی که مال حرام به دست آورد آثار بدی برایش خواهد داشت .	۰/۵
	الف) حفظ سلامتی	
	ب) مستجاب نشدن دعا	
	ج) وابستگی به بیگانگان	
	د) توجه به محرومان	



آزمون نوبت دوم سال تحصیلی ۱۴۰۱-۱۴۰۲

پایه هفتم دوره اول متوسطه

نام و نام خانوادگی :

کلاس :

تاریخ : ۱۴۰۲/۰۲/۲۴

زمان آزمون : ۲۰ دقیقه

دبیر : جناب آقای ویسه

نام درس : تفکر و سبک زندگی

امضای دبیر		نمره آزمون :	
بارم	سوال	ردیف	
۰/۵	الف) تستی : نوعی مسافرت دسته جمعی با هدف تفریح ، کسب مهارت های اجتماعی و کسب مهارت در تحمل سختی ، زیارت اماکن خاص و یا سیاحت . الف) بازدید علمی ب) مهاجرت ج) اردو	۱	
۰/۵	افراد با توجه به نظام ارزشی خود ، در انجام رفتار ها برای خودشان مقدار یا حدّ و حدودی قائل اند که به آن ها می گویند . الف) انعطاف در رفتار ب) مهارت های تصمیم گیری ج) معیار های رفتاری	۲	
۱/۵	ب) تشریحی : سه مورد از انواع تصمیم گیری ها را فقط نام ببرید .	۳	
۱	عصبانیت چیست ؟ (تعریف کنید و یک نتیجه آن را بنویسید)	۴	
۰/۵	ج) وصل کردنی : هر کدام از عبارات سمت راست را به گزینه مناسب در سمت چپ متصل نمایید . ۵ - احساس ارزشمند بودن ، احساس محترم بودن و شریف بودن . الف) آداب معاشرت	۵	
۰/۵	۶ - مجموع رفتار های درستی که باید در برخورد با یکدیگر در موقعیت های مختلف رعایت کنیم . ب) عزت نفس	۶	
۰/۵	۷ - داشتن تصویری از خود که می توان شخصیت خود را ارزیابی کرد . ج) خود پنداره	۷	



آزمون نوبت دوم سال تحصیلی ۱۴۰۱-۱۴۰۲

پایه هفتم دوره اول متوسطه

نام و نام خانوادگی :

کلاس :

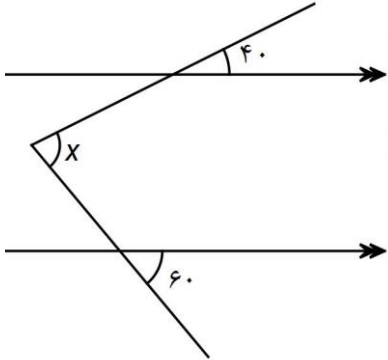
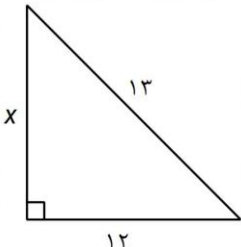
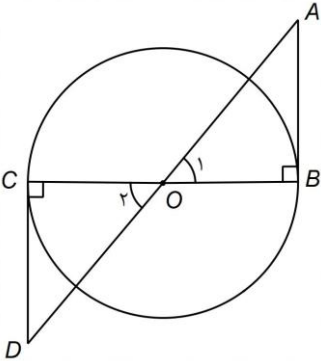
تاریخ : ۱۴۰۲/۰۳/۰۶

زمان آزمون : ۹۰ دقیقه

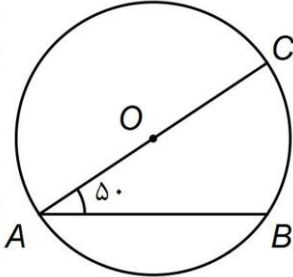
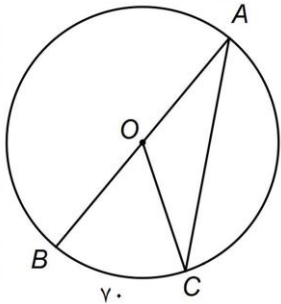
دبیر : جناب آقای میلانی

نام درس : ریاضی

امضای دبیر		نمره آزمون :	
بارم	سوال	ردیف	
۱	<p>درستی یا نادرستی جمله های زیر را مشخص کنید .</p> <p>(الف) همه ی اعداد طبیعی حداقل یک شمارنده اول دارند .</p> <p>(ب) همه ی مثلث های متساوی الاضلاع هم نهشت هستند .</p> <p>(ج) زاویه محاطی روبرو به قطر ۹۰ درجه است .</p> <p>(د) تعداد کل حالت ها در پرتاب یک سکه و یک تاس ۱۲ تا است .</p> <p>درست <input type="radio"/> نادرست <input type="radio"/></p> <p>درست <input type="radio"/> نادرست <input type="radio"/></p> <p>درست <input type="radio"/> نادرست <input type="radio"/></p> <p>درست <input type="radio"/> نادرست <input type="radio"/></p>	۱	
۱	<p>جای خالی را با عدد یا کلمه مناسب پر کنید .</p> <p>(الف) در روش غربال برای یافتن اعداد اول دومین عددی که به خاطر عدد ۷ خط می خورد است .</p> <p>(ب) سه ضلعی منتظم ندارد . (مرکز تقارن ، محور تقارن)</p> <p>(ج) شعاع دایره در نقطه تماس بر خط مماس است .</p> <p>(د) احتمال زوج آمدن تاس برابر است .</p>	۲	
۲	<p>گزینه درست را انتخاب کنید .</p> <p>(الف) حاصل عبارت M کدام است ؟</p> $M = 2 - 4 + 6 - 8 + \dots + 198 - 200$ <p>(ب) آخرین عددی که در روش غربال ۱ تا ۸۰ خط می خورد چند است ؟</p> <p>(ج) پدري ۴۵ ساله دارای دو فرزند ۱۵ و ۱۰ ساله است . پس از چند سال سن پدر با مجموع سن فرزندان برابر می شود ؟</p> <p>(د) کدام یک جزو حالت های هم نهشتی مثلث ها نیست ؟</p>	۳	<p>(۱) ۹۸ (۲) -۹۸ (۳) ۱۰۰ (۴) -۱۰۰</p> <p>(۱) ۷۷ (۲) ۴۹ (۳) ۷ (۴) ۷۹</p> <p>(۱) ۱۵ (۲) ۶ (۳) ۱۰ (۴) ۲۰</p> <p>(۱) ض.ض.ض (۲) ز.ز.ز (۳) ز.ض.ز (۴) ض.ز.ض</p>
۱	<p>حاصل عبارت زیر را بدست آورید .</p> $1 - \frac{1 - 1\frac{1}{4}}{-1 + 1\frac{1}{4}} =$	۴	

بارم	سوال	ردیف
۱/۵	<p>الف) اندازه هر زاویه داخلی یک ۱۲ ضلعی منتظم را محاسبه کنید .</p>  <p>ب) اندازه زاویه X چند درجه است ؟ X =</p>	۵
۱	<p>معادله زیر را حل کنید .</p> $\frac{2x + 1}{3} = \frac{4 - x}{2}$	۶
۱/۵	<p>الف) معادله برداری مقابل را حل کنید .</p> $-4\vec{x} = -12\vec{i} + 2\vec{j}$ <p>ب) با توجه به بردار های a و b مختصات بردار c را به دست آورید .</p> $\vec{a} = \begin{bmatrix} -2 \\ 3 \end{bmatrix}, \vec{b} = \begin{bmatrix} 3 \\ -1 \end{bmatrix} \quad \vec{c} = 5\vec{a} - 2\vec{b}$ <p>$\vec{c} =$</p>	۷
۱	<p>مقدار X را در شکل زیر محاسبه کنید .</p> 	۸
۱	<p>در شکل زیر O مرکز دایره است . چرا دو مثلث OAB و ODC هم نهشتند ؟</p> 	۹

بارم	سوال	ردیف																
۱/۲۵	<p>اگر در مثلث ABC پاره خط AM میانه وارد بر ضلع BC باشد، چرا $\overline{CK} = \overline{BH}$ ؟</p>	۱۰																
۲	<p>حاصل عبارت های زیر را به صورت عددی تواندار بنویسید .</p> <p>الف) $\underbrace{11^9 + 11^9 + 11^9 + \dots + 11^9}_{121 \text{ بار}} =$</p> <p>ب) $\frac{3.7 \times 3.5}{61.0 \times 51.0}$</p>	۱۱																
۰/۷۵	<p>عدد $3 - \sqrt{5}$ را روی محور نشان دهید .</p>	۱۲																
۱	<p>حاصل عبارت زیر را محاسبه نمایید .</p> $\sqrt{2 \times 40 + 1} \div \sqrt{6^2 - \sqrt{121}}$	۱۳																
۲	<p>جدول را کامل کنید و میانگین را بدست آورید .</p> <table border="1" style="width: 100%; border-collapse: collapse; text-align: center;"> <thead> <tr> <th>حدود دسته</th> <th>فراوانی</th> <th>مرکز دسته</th> <th>فراوانی × مرکز دسته</th> </tr> </thead> <tbody> <tr> <td>$0 \leq x < 6$</td> <td>۷</td> <td></td> <td>۲۱</td> </tr> <tr> <td>$6 \leq x \leq 12$</td> <td></td> <td>۹</td> <td>۱۸</td> </tr> <tr> <td>مجموع</td> <td></td> <td style="background-color: #cccccc;"></td> <td></td> </tr> </tbody> </table> <p>میانگین =</p>	حدود دسته	فراوانی	مرکز دسته	فراوانی × مرکز دسته	$0 \leq x < 6$	۷		۲۱	$6 \leq x \leq 12$		۹	۱۸	مجموع				۱۴
حدود دسته	فراوانی	مرکز دسته	فراوانی × مرکز دسته															
$0 \leq x < 6$	۷		۲۱															
$6 \leq x \leq 12$		۹	۱۸															
مجموع																		

بارم	سوال	ردیف
۰/۵	<p>دو تاس را با هم پرتاب می کنیم . احتمال اینکه مجموع اعداد رو آمده عدد ۱۲ شود چقدر است ؟</p>	۱۵
۱/۵	<p>اندازه زاویه ها و کمان های خواسته شده را بدست آورید . (O مرکز دایره است.)</p> <div style="display: flex; justify-content: space-around; align-items: flex-start;"> <div style="text-align: center;">  </div> <div style="text-align: center;"> $\widehat{BC} = \dots\dots\dots$ $\widehat{AB} = \dots\dots\dots$ </div> </div> <div style="display: flex; justify-content: space-around; align-items: flex-start; margin-top: 20px;"> <div style="text-align: center;">  </div> <div style="text-align: center;"> $\widehat{BOC} =$ $\widehat{AC} =$ $\widehat{COA} =$ $\widehat{A} =$ </div> </div>	۱۶

موفق باشید .



آزمون نوبت دوم سال تحصیلی ۱۴۰۱-۱۴۰۲

پاره ششم دوره اول متوسطه

نام و نام خانوادگی :

کلاس :




تاریخ : ۱۴۰۲/۰۳/۰۳

زمان آزمون : ۶۰ دقیقه

دبیر : جناب آقای قربانی

نام درس : زبان انگلیسی

امضای دبیر		نمره آزمون :	
بارم	سوال	ردیف	
1	Choose the odd words . 1) hospital / drugstore / magazine / airport 2) patient / headache / mumps / sore eyes	A	کلمه نا هماهنگ از لحاظ معنی را مشخص کنید
2	Make question . 3) - I'm Spanish . 4) - No , there are many tourists in the park .	B	سوال بسازید.
3	unscramble . 5) the restaurant / lunch / . / let's / and / eat / go to 6) free time / what / your / ? / do / in / do / you 7) has / throat / a / . / sore / she	C	مرتب کنید .
1	Choose the odd words. 8) br <u>ing</u> / r <u>ide</u> / Fr <u>id</u> ay / sunr <u>is</u> e 9) sou <u>th</u> / <u>th</u> ree/ <u>th</u> ank / <u>th</u> ey	D	کلمه نا هماهنگ از لحاظ تلفظ را مشخص کنید
2	Give complete answer . 10) What is Tehran famous for ? (Milad Tower) 11) Are you good at drawing ? (cooking)	E	پاسخ کامل بدهید. (با توجه به کلمه داخل پرانتز)

بارم	سوال	ردیف												
3	<p>Choose the best choice . بهترین گزینه را انتخاب کنید .</p> <p>12- We enjoy movies . a) to watch b) watch c) watching d) doing</p> <p>13- Can they make a cake ? yes , a) I can b) they do c) they can't d) they can</p> <p>14- It'll be very this winter . a) snowy b) hot c) sunny d) dry</p> <p>15- Tuesday comes after a) Wednesday b) Monday c) Sunday d) Friday</p> <p>16- Is she from China ? No , she's a) Chinese b) Germany c) Iranian d) France</p> <p>17- I listen to sports news the net . a) on b) at c) in d) from</p>	F												
2	<p>Write synonyms or antonyms . مترادف یا متضاد را بنویسید .</p> <p>18) east ≠ 19) long ≠ 20) have a temperature = 21) pain =</p>	G												
3	<p>Put the words in the correct column. (یک کلمه اضافی است). کلمات داده شده را در ستون مناسب قرار دهید.</p> <p>stomachache / skiing / village / European / rainy / Africa / chicken</p> <table border="1"> <thead> <tr> <th>Nationality</th> <th>Health problem</th> <th>Weather</th> <th>Animal</th> <th>Hobby</th> <th>Place</th> </tr> </thead> <tbody> <tr> <td>22)</td> <td>23)</td> <td>24)</td> <td>25)</td> <td>26)</td> <td>27)</td> </tr> </tbody> </table>	Nationality	Health problem	Weather	Animal	Hobby	Place	22)	23)	24)	25)	26)	27)	H
Nationality	Health problem	Weather	Animal	Hobby	Place									
22)	23)	24)	25)	26)	27)									
1	<p>Guess the words . لغت مورد نظر را حدس بزنید . (دیکته صحیح کلمه نوشته شود)</p> <p>28) Many people go there to watch football . _ _ _ _ i _ _ _ 29) It's 7 p.m. in the _ _ _ n _ _ _ .</p>	I												
2	<p>Write the missing letters . با توجه به تصویر حروف جا افتاده را بنویسید .</p> <p>30) Sat _ rd _ y 31) Tr _ in stat _ on</p> <div style="display: flex; justify-content: space-around; align-items: center;"> <div style="border: 1px solid black; padding: 5px; text-align: center;">شنبه</div>  </div> <p>32) Clim _ the tr _ e . 33) Hol _ Shr _ ne</p> <div style="display: flex; justify-content: space-around; align-items: center;">   </div>	J												

Good Luck



آزمون نوبت دوم سال تحصیلی ۱۴۰۱-۱۴۰۲

پایه هشتم دوره اول متوسطه

نام و نام خانوادگی :

کلاس :

تاریخ : ۱۴۰۲/۰۳/۰۸

زمان آزمون : ۶۰ دقیقه

دبیر : جناب آقای تاجداری

نام درس : عربی

امضای دبیر		نمره آزمون :					
بارم	سوال	ردیف					
۴/۵	<p>جملات زیر را به فارسی ترجمه نمایید .</p> <p>الف) الْجِيرَانُ يَجْلِسُونَ عَلَى الْيَمِينِ . ←</p> <p>ب) جَاءَتْ إِلَيْهَا أَحَدَى زَمِيلَاتِهَا . ←</p> <p>ج) اِنِّي رَأَيْتُ أَحَدَ عَشَرَ كَوْكَبًا . ←</p> <p>د) أَتَعْرِفُونَ أَنَّ خَلْفَ الْجِبَالِ عَالَمًا آخَرَ . ←</p> <p>هـ) فِي هَذِهِ الْمُحَافِظَةِ غَابَاتٌ وَ أَنْهَارٌ . ←</p> <p>و) الصَّيْدَلِيَّةُ فِي نَفْسِ الْمُسْتَشْفَى . ←</p>	۱					
۰/۵	<p>ترجمه کدامیک درست است ؟</p> <p>الف) الْعِلْمُ يَحْرَسُكَ :</p> <p>۱- تو از دانش نگهداری می کنی . ○</p> <p>۲- دانش از تو نگهداری می کند . ○</p> <p>ب) عِنْدَكُمْ حَدِيقَةٌ جَمِيلَةٌ :</p> <p>۱- باغی زیبا دارید ○</p> <p>۲- باغ زیبایی داشتید ○</p>	۲					
۰/۵	<p>متزادف را با = و متضاد را با ≠ مشخص کنید .</p> <p>الف) (سَعْرٌ ○ قِيمَةٌ)</p> <p>ب) (حَارٌّ ○ بَارِدٌ)</p>	۳					
۰/۵	<p>فقط کلمه مشخص شده را معنا کنید .</p> <p>الف) مَاذَا تَكْتُبُ فِي الْوَصْفَةِ . ()</p> <p>ب) أَجْمَعُ الْقَمَحَ مِنَ الْمَزْرَعَةِ . ()</p>	۴					
۰/۵	<p>اسم اشاره مناسب برای جملات زیر را بنویسید .</p> <p>الف) الْمُمْرَضَاتُ صَابِرَاتٌ . (نزدیک)</p> <p>ب) الْأُمَّهَاتُ ، جَالِسَاتٌ . (دور)</p>	۵					
۰/۵	<p>کلمات روبرو را در جای مناسب در جدول قرار دهید . (یک کلمه اضافی است)</p> <p>عُرَابِيْنَ - طَالِبَات - بُسْتَان</p> <table border="1" style="margin-left: auto; margin-right: auto;"> <tr> <td>مثنی</td> <td>جمع سالم</td> </tr> <tr> <td> </td> <td> </td> </tr> </table>	مثنی	جمع سالم			۶	
مثنی	جمع سالم						

ردیف	سوال	بارم
۷	کلمه ناهم‌هنگ را مشخص کنید . « سَمَكَة - شارع - ساحة - طريق »	۰/۲۵
۸	جمع مکسر (ناسام) کلمه «قريب» چیست ؟	۰/۲۵
۹	عدد مناسب برای جای خالی چیست ؟ اليومُ في الأسبوعِ يومُ الخَميسِ . ○ الخامس ○ السادس	۰/۲۵
۱۰	عقربه ساعت را رسم کنید .  التاسعة	۰/۲۵
۱۱	پاسخ کوتاه دهید . (به عربی) الف) كَيْفَ انتَ ؟ ب) كَمَ عَدَدُ أَفْرَادِ أُسْرَتِكَ ؟ ج) مَتَى تَكْتُبُ وَاجِبَكَ ؟ د) أ انتَ طَالِبٌ ؟	۱
۱۲	افعال زیر را ترجمه کنید . الف) قَدَرَ : توانست ← لا يَقْدِرُونَ () ب) يَكْتُبُ : می نویسد ← ما كَتَبْنَا () ج) سَمَحَ : اجازه داد ← سَوْفَ يَسْمَحَانِ () د) فَرِحَ : شاد شد ← تَفْرَحِينَ ()	۱
۱۳	فقط افعال جملات زیر را ترجمه کنید . الف) سَنَذْهَبُ إِلَى الْمَدِينَةِ . () ب) وَ رَأَيْتَ النَّاسَ يَدْخُلُونَ فِي دِينِ اللَّهِ () ج) جَدِّي مَا طَلَبَ مِنَّا مُسَاعَدَةً . ()	۱
۱۴	هر توضیح را به کلمه مربوط به آن وصل کنید . الف) ۱- مکان لَفْحَصِ الْمَرْضَى ۲- قَطْرَاتٌ جَارِيَةٌ مِنَ الْعَيْنَيْنِ ۳- كِتَابٌ يَشْرَحُ مَعَانِيَ الْكَلِمَاتِ ۴- إِنَّ الْعُلَمَاءَ ب) الف) مصابيح الارض ب) الْمُعْجَمُ ج) الدَّمُوعُ د) الْمُسْتَوْصَفُ	۱

بارم	سوال	ردیف
۲	<p>گزینه مناسب را انتخاب کنید .</p> <p>الف) هَلْ تِلْكَ الْمُدْرَسَةُ يَا أُخْتِي ؟</p> <p>ب) الْاَوْلَادُ اِلَى الصَّفُوْفِ عُدَّآ .</p> <p>ج) مَاذَا فَعَلْتِ ؟ عَنِ الْمِفْتَاحِ .</p> <p>د) الطَّالِبَاتُ حَوْلَ عِلْمِ الْكِيْمِيَاءِ .</p> <p>هـ) الْفَصْلُ الثَّانِي فِي السَّنَةِ فَصْلٌ</p> <p>و) النِّسَاءُ طَعَامَ السَّفْرِ .</p> <p>ز) اَنْتِ فِي الْمَصْنَعِ اَمْسِ .</p> <p>ح) اَيْتُهَا الْبِنْتَانِ ، اَيْنَ ؟</p> <p>يَعْرِفُ ○ تَعْرِفُ ○</p> <p>سَيَرْجِعُ ○ سَيَرْجِعَانِ ○</p> <p>بَحَثْتُ ○ بَحَثْتِ ○</p> <p>يَسْأَلْنَ ○ تَسْأَلْنَ ○</p> <p>الرَّبِيعِ ○ الصَّيْفِ ○</p> <p>يَطْبِخُ ○ تَطْبِخُ ○</p> <p>تَعْمَلُ ○ عَمَلْتُ ○</p> <p>تَذْهَبَانِ ○ تَذْهَبَيْنِ ○</p> <p>تَعْرِفِينَ ○</p> <p>سَيَرْجِعُونَ ○</p> <p>فَعَلْتِ ○</p> <p>تَسْأَلَانِ ○</p> <p>الْخَرِيفِ ○</p> <p>يَطْبُخْنَ ○</p> <p>عَمَلْتِ ○</p> <p>تَذْهَبْنَ ○</p>	۱۵
۱	<p>متن زیر را بخوانید ، سپس پاسخ درست را انتخاب کنید .</p> <p>هذه الْبِنْتُ سُمِيَّةٌ . هي طَالِبَةٌ مُجِدَّةٌ فِي الصَّفِّ الثَّامِنِ . بَيْتُهَا فِي سَاحَةِ «انْقِلَابٍ» وَ مَدْرَسَتُهَا فِي بَدَايَةِ شَارِعِ «آزَادِي» . بَيْتُ سُمِيَّةٍ بَعِيدٌ مِنْ مَدْرَسَتِهَا . هي تَرْجِعُ اِلَى الْبَيْتِ مَسَاءً . لَهَا اَخٌ اِسْمُهُ «صَادِقٌ» . هو طَالِبٌ فِي الصَّفِّ السَّابِعِ . سُمِيَّةٌ تُحِبُّ طَبَّ الْعِيُونِ وَ صَادِقٌ يُحِبُّ الرِّيَاضَةَ وَ هُوَ لَاعِبٌ مَمْتَاظٌ فِي كُرَةِ الْقَدَمِ . هُمَا يَذْهَبَانِ اِلَى مَدْرَسَتِهِمَا بِالْحَافِلَةِ .</p> <p>الف) اَيْنَ بَيْتُ سُمِيَّةٍ ؟</p> <p>ب) اَيِّ مِهْنَةٍ يُحِبُّ صَادِقٌ ؟</p> <p>ج) مَتَى تَرْجِعُ سُمِيَّةٌ اِلَى الْبَيْتِ ؟</p> <p>د) بِمَ يَذْهَبُ صَادِقٌ اِلَى الْمَدْرَسَةِ ؟</p> <p>ساحة انقلاب ○ شارع «آزادي» ○</p> <p>طَبَّ الْعِيُونِ ○ الرِّيَاضَةَ ○</p> <p>بَعْدَ الظُّهْرِ ○ صَبَاحًا ○</p> <p>بِالطَّائِرَةِ ○ بِالْحَافِلَةِ ○</p>	۱۶



آزمون نوبت دوم سال تحصیلی ۱۴۰۱-۱۴۰۲

نام و نام خانوادگی :

پایه هفتم دوره اول متوسطه

کلاس :

تاریخ : ۱۳ / ۰۳ / ۱۴۰۲

زمان آزمون : ۸۰ دقیقه

دبیر : آقای نقدیانی

نام درس : علوم

امضای دبیر		نمره آزمون :	
بارم	سوال	ردیف	
۱/۵	الف) جاهای خالی را با کلمه های مناسب کامل کنید .	۱	دو بار الکتریکی همنام ، یکدیگر را می کنند .
		۲	در ژنراتور انرژی حرکتی به انرژی تبدیل می شود .
		۳	بازالت جزو سنگ های آذرین است .
		۴	هرگاه جسم کدری مقابل یک چشمه نور قرار بگیرد، در پشت جسم کدر فضای تاریکی ایجاد می شود که به آن می گویند .
		۵	وقتی جسمی بین آینه مقعر و کانون آن قرار بگیرد همواره تصویری و در آینه تشکیل می شود و اندازه تصویر بزرگتر از جسم است .
۱/۵	ب) درستی و یا نادرستی جمله های زیر را تعیین کنید .	۱	در یک مدار ساده باتری نقش مصرف کننده ، سیم ها نقش رسانا ، لامپ نیز نقش مصرف کننده را دارد . ()
		۲	ذرات تشکیل دهنده ماسه سنگ درشت تر از کنگلومرا هستند . ()
		۳	انقباض و انقباض حاصل از تغییرات دما که موجب شکسته شدن سنگ ها می شود نوعی هوا زدگی شیمیایی است . ()
		۴	جسم غیر منیر زمانی دیده می شود که نور یک جسم منیر را که به آن تابیده به چشم ما بازتاب دهد . ()
		۵	باریکه نور هنگام ورود از هوا به منشور طوری شکسته می شود که به خط عمود نزدیک شود . ()
		۶	عدسی که وسط آن از لبه هایش نازکتر باشد عدسی مقعر یا کاو نامیده می شود . ()
۰/۵	ج) در مقابل پاسخ صحیح علامت ضربدر بگذارید .	۱	کانی ها چه موادی هستند ؟ الف) مواد طبیعی ، آلی ، متبلور و جامدی که ترکیب شیمیایی ثابتی دارند . ب) مواد طبیعی ، غیر آلی ، متبلور و جامدی که ترکیب شیمیایی متفاوت دارند . ج) مواد طبیعی ، غیر آلی ، متبلور و جامدی که ترکیب شیمیایی نسبتاً ثابتی دارند . د) مواد طبیعی ، آلی ، متبلور و جامدی که ترکیب شیمیایی متفاوت دارند .
		۲	کدام عامل در دگرگونی سنگ ها نقش ندارد ؟ الف) گرما ب) تبخیر ج) محلول های داغ د) فشار
		۳	در هنگام خورشید گرفتگی (کسوف) : الف) خورشید در سایه زمین است . ب) ماه در سایه زمین است . ج) زمین در سایه ماه است . د) زمین بین ماه و خورشید قرار دارد .

ردیف	سوال	بارم
۴	تصویر در آینه های کوژ چگونه است ؟ الف) بزرگتر از جسم و مجازی ج) بزرگتر از جسم حقیقی ب) کوچکتر از جسم و مجازی د) کوچکتر از جسم حقیقی	۰/۵
۱	به سوالات زیر پاسخ دهید . مخلوطی از ماسه و نمک در اختیار دارید . چگونه می توانید آن ها را از یکدیگر جدا کنید ؟	۰/۵
۲	برای استفاده کردن از انرژی ذخیره شده در مواد به جز سوزاندن آن ها یک روش دیگر را بنویسید .	۰/۵
۳	ساختار اتمی عنصر بریلیم ${}^4_2\text{Be}$ را بر اساس مدل بور رسم کنید .	۰/۵
۴	دو مورد از ویژگی های اعمال غیر ارادی (انعکاسی) را بنویسید .	۰/۵
۵	از وظایف استخوان بندی بدن ۲ مورد را بنویسید .	۰/۵
۶	نقش هورمون انسولین در بدن چیست ؟	۰/۵
۷	با ذکر مثال توضیح دهید چگونه دانشمندان توانسته اند با انتقال ژن از یک جاندار به جاندار دیگر صفات جدیدی در جانداران ایجاد کنند ؟	۰/۵
۸	هر یک از جمله های زیر از ویژگی های کدام گروه از جانوران است ؟ داخل پرانتز زیر آن خط بکشید . الف) جنین از طریق اندامی به نام جفت با خون مادر ، در ارتباط است . (بچه زا - تخم گذار) ب) لقاح در بیرون بدن این جانور صورت می گیرد . (پرندگان - دوزیستان)	۰/۵

ردیف	سوال	بارم												
۹	چگونه می توان به وسیله یک برق نمای باردار نوع بار الکتریکی یک جسم را تعیین نمود؟	۰/۵												
۱۰	<p>به جدول زیر توجه کنید و به سوالات داده شده پاسخ دهید .</p> <p>الف) کدام ذره بار مثبت دارد :</p> <p>ب) کدام ذره بار منفی دارد :</p> <p>ج) کدام ذره خنثی است :</p>	۰/۷۵												
	<table border="1"> <thead> <tr> <th>نام ذره</th> <th>تعداد الکترون</th> <th>تعداد پروتون</th> </tr> </thead> <tbody> <tr> <td>A</td> <td>۱۸</td> <td>۱۷</td> </tr> <tr> <td>B</td> <td>۱۵</td> <td>۱۵</td> </tr> <tr> <td>C</td> <td>۱۰</td> <td>۱۲</td> </tr> </tbody> </table>	نام ذره	تعداد الکترون	تعداد پروتون	A	۱۸	۱۷	B	۱۵	۱۵	C	۱۰	۱۲	
نام ذره	تعداد الکترون	تعداد پروتون												
A	۱۸	۱۷												
B	۱۵	۱۵												
C	۱۰	۱۲												
۱۱	آهنربایی را درون ظرفی پر از سنجاق فرو برده ایم و آن را خارج می کنیم . چرا تعداد سنجاق ها در همه جای آهنربا یکسان نیست؟	۰/۵												
۱۲	از عوامل موثر در افزایش قدرت آهنربای الکتریکی ۲ مورد را بنویسید .	۰/۵												
۱۳	۲ مورد از کاربرد کانی ها در زندگی انسان را نام ببرید .	۰/۵												
۱۴	ویژگی های سنگ های رسوبی را بنویسید .	۰/۵												

ردیف	سوال	بارم
۱۵	توضیح دهید هوازدگی چگونه باعث می شود تا عمل فرسایش آسانتر شود؟	۱
۱۶	در شکل زیر پرتو نوری با زاویه 35° نسبت به سطح آینه، به آینه تابیده است. شکل را کامل کرده و تعیین کنید زاویه بازتاب چند درجه خواهد بود؟	۰/۷۵
۱۷	توضیح دهید چرا عدسی های محدب را همگرا و عدسی های مقعر را واگرا می نامند؟	۰/۵
۱۸	مسئله زیر را حل کنید: اختلاف پتانسیل مداری 220 ولت و جریان گذرنده از آن 10 آمپر است. مقاومت مدار چند اهم است؟ (نوشتن فرمول و یکا الزامی است)	۰/۵



آزمون نوبت دوم سال تحصیلی ۱۴۰۱-۱۴۰۲

پایه ششم دوره اول متوسطه

نام و نام خانوادگی:

کلاس:

تاریخ: ۱۴۰۲/۰۳/۱۰

زمان آزمون: ۶۰ دقیقه

دبیر: جناب آقای خوردچشم

نام درس: فارسی

امضای دبیر		نمره آزمون:	
بارم	سوال	ردیف	
۰/۵	معنی شعر و نثر (۲/۵) معنی مصراع ها و بیت زیر را به نثر روان بنویسید . ۱- رعد و برق شب طنین خنده اش ۲- برق از شوق که می خندد بدین سان قاه قاه ؟ ۳- ای وطن، ای دل مرا مأوا ۴- در زمان انداخت شمشیر آن علی کرد او اندر غزایش کاهلی	الف	
۰/۵			
۰/۵			
۱			
۱	معنی لغات زیر را بنویسید . (۱) ۵- مرشد : ۶- چاشت : ۷- تنگنا : ۸- دوات :	ب	
۱	درک مطلب (۲/۵) ۹- با توجه به بیت «لنگ لنگان قدمی بر می داشت الف) یک مفعول را مشخص کنید . ب) اضافه تشبیهی کدام عبارت درست است ؟ پ) این بیت ، چند جمله است ؟ ۱۰- مفهوم کنایه های زیر را بنویسید . الف) بر ذهن نوشتن : ب) تیغ افراشتن : پ) سرد و گرم روزگار : ت) جان بر کف :	پ	
۱			

بارم	سوال	ردیف		
۰/۵	<p>۱۱- درست یا نادرست بودن عبارت های زیر را بنویسید .</p> <p>الف) منظور از «کودکان سنگ» در عبارت «به زودی ، کودکان سنگ ، ویران تان خواهند کرد» بچه های عراق است .</p> <p>○ درست ○ نادرست</p> <p>ب) در عبارت «روزگار دریایی است که کشتی زندگانی ما بر روی آن به سوی ساحل مقصود می رود.» سه تشبیه وجود دارد .</p> <p>○ درست ○ نادرست</p>			
<p>۰/۵</p> <p>۰/۵</p> <p>۰/۵</p> <p>۱</p> <p>۰/۵</p>	<p>ت</p> <p>دانش زبانی و ادبی (۳)</p> <p>۱۲- در مصراع زیر ، متمم و مفعول را مشخص کنید .</p> <p>زین گفته ، سعادت تو جویم .</p> <p>۱۳- در گروه های اسمی زیر ، هسته را مشخص کنید .</p> <p>الف) آن مرد دانشمند (ب) هر چهار دانش آموز درس خوان کلاس</p> <p>۱۴- در جمله «برگ های سبز ، زیر نور گرم خورشید می درخشیدند.» صفت های بیانی را مشخص کنید .</p> <p>۱۵- در عبارت های زیر ، نوع وابسته های پیشین مشخص شده را بنویسید .</p> <p>الف) هر دانش آموز یک درخت کاشته است .</p> <p>ب) آن مرد دانا کتاب خود را از کدام کتابفروشی خریده است ؟</p> <p>۱۶- مفرد کلمات زیر را بنویسید .</p> <p>عوامل : افکار :</p>			
۱	<p>س</p> <p>تاریخ ادبیات (۱)</p> <p>۱۷- با توجه به جدول زیر ، نام اثر را به نام پدید آورنده آن وصل کنید . (یک مورد اضافی است)</p> <table border="1" data-bbox="261 1637 1386 2018"> <tr> <td data-bbox="261 1637 823 2018"> <p>امیرکبیر</p> <p>داستان هایی از زندگی امیرکبیر</p> <p>به قول پرستو</p> <p>جامع التمثیل</p> </td> <td data-bbox="823 1637 1386 2018"> <ul style="list-style-type: none"> • قیصر امین پور • محمد حیلہ رودی • فرهاد حسن زاده • میر جلال الدین کزازی • محمود حکیمی </td> </tr> </table>	<p>امیرکبیر</p> <p>داستان هایی از زندگی امیرکبیر</p> <p>به قول پرستو</p> <p>جامع التمثیل</p>	<ul style="list-style-type: none"> • قیصر امین پور • محمد حیلہ رودی • فرهاد حسن زاده • میر جلال الدین کزازی • محمود حکیمی 	
<p>امیرکبیر</p> <p>داستان هایی از زندگی امیرکبیر</p> <p>به قول پرستو</p> <p>جامع التمثیل</p>	<ul style="list-style-type: none"> • قیصر امین پور • محمد حیلہ رودی • فرهاد حسن زاده • میر جلال الدین کزازی • محمود حکیمی 			



آزمون نوبت دوم سال تحصیلی ۱۴۰۱-۱۴۰۲

نام و نام خانوادگی :

پایه هفتم دوره اول متوسطه

کلاس :

تاریخ : ۱۴۰۲/۰۳/۰۱

زمان آزمون : ۴۰ دقیقه

دبیر : جناب آقای ایران پوری

نام درس : قرآن

امضای دبیر		نمره آزمون :													
بارم	سوال			ردیف											
۱	۱ - معنی درست هر کلمه را با علامت (x) مشخص کنید.				۱										
	نَبَأٌ	أَنْبَتْنَا	شَرِيكٌ	عَلِيمٌ											
۱	خبر	اطاعت کنید	همتا	فروتن	۲										
	گمان کرد	رویاندیم	خواب	دانا											
۱	۲ صحیح یا غلط بودن جمله های زیر را مشخص کنید.				۱										
	الف) کلمه «مُفْلِحُونَ» یعنی: اقامه می کنند صحیح <input type="checkbox"/> غلط <input type="checkbox"/>														
	ب) کلمه «شَاهِدٌ» یعنی: گواه صحیح <input type="checkbox"/> غلط <input type="checkbox"/>														
	ج) کلمه «سِرَاجٌ» یعنی: شهر صحیح <input type="checkbox"/> غلط <input type="checkbox"/>														
د) کلمه «اتَّخَذُوا» یعنی: بگیرید صحیح <input type="checkbox"/> غلط <input type="checkbox"/>				۳											
۳ جدول زیر را با استفاده از کلمات داده شده کامل کنید. (یک کلمه اضافی است) «راه ، دوری کردند از، غذاهای پاک ، عبادت می کنم، روزی»															
۱	<table border="1"> <tr> <td>کلمه</td> <td>أَعْبُدُ</td> <td>سَبِيلٌ</td> <td>إِجْتَنَبُوا</td> <td>طَيِّبَاتٌ</td> </tr> <tr> <td>معنا</td> <td>.....</td> <td>.....</td> <td>.....</td> <td>.....</td> </tr> </table>				کلمه	أَعْبُدُ	سَبِيلٌ	إِجْتَنَبُوا	طَيِّبَاتٌ	معنا	۱
	کلمه	أَعْبُدُ	سَبِيلٌ	إِجْتَنَبُوا	طَيِّبَاتٌ										
معنا											

ردیف	سوال	بارم
۴	<p>- معنی درست هر ترکیب قرآنی را مشخص کنید.</p> <p>الف) «عَمَّا يَشْرِكُونَ»: ۱- از آنچه شریک قرار دادند. ۲- از آنچه شریک قرار می دهند.</p> <p>ب) «مِنْ كُلِّ زَوْجٍ كَرِيمٍ»: ۱- از هر نوع ارزشمند. ۲- از هر چیزهای ارزشمند.</p> <p>ج) «نَجْعَلُهُمْ آئِمَّةً»: ۱- شما را پیشوایان قرار می دهیم. ۲- آنها را پیشوایان قرار می دهیم.</p> <p>د) «أَنْ يَقُولُوا آمَنَّا»: ۱- که بگویند ایمان آوردیم. ۲- می گویند ایمان آوردیم.</p>	۱
۵	<p>شماره ترجمه هر ترکیب را در داخل مربع کنار آن بنویسید.</p> <p>هُدًى وَ رَحْمَةً لِّلْمُحْسِنِينَ <input type="checkbox"/></p> <p>إِنَّا أَرْسَلْنَاكَ. <input type="checkbox"/></p> <p>يُولِجُ اللَّيْلَ فِي النَّهَارِ. <input type="checkbox"/></p> <p>يَرْزُقُكُمْ. <input type="checkbox"/></p> <p>۱) قطعاً ما فرستادیم تو را. ۲) شب را در روز داخل می کند. ۳) هدایت و رحمت برای نیکوکاران. ۴) روزی می دهد شما را.</p>	۱
۶	<p>ترکیبات قرآنی زیر را معنا کنید.</p> <p>الف) وَ هُمْ مُهْتَدُونَ : (.....)</p> <p>ب) يَسْتَمِعُونَ الْقَوْلَ : (.....)</p>	۱
۷	<p>ترجمه ی صحیح آیات زیر را با علامت (X) مشخص کنید.</p> <p>الف) «إِنَّ اللَّهَ لَا يُحِبُّ الْمُفْسِدِينَ.» ۱- قطعاً خدا خرابکاران را دوست ندارد. <input type="checkbox"/> ۲- قطعاً خدا گمراهان را نمی بخشد. <input type="checkbox"/></p> <p>ب) «ثُمَّ إِلَىٰ رَبِّكُمْ تُرْجَعُونَ.» ۱- یافتند آنچه را که انجام دادند. <input type="checkbox"/> ۲- سپس به سوی پروردگارتان بازگردانده می شوید. <input type="checkbox"/></p>	۱
۸	<p>ترجمه ناقص آیات قرآنی را کامل کنید.</p> <p>الف) «جَعَلَ النَّهَارَ نُشُورًا»: را برای تلاش و زندگی.</p> <p>ب) «وَوَكَّفَىٰ بِاللَّهِ وَكَيْلًا»: و کافی است خدا برای (بودن)</p> <p>ج) «وَوَجَاءَ مِنْ أَقْصَا الْمَدِينَةِ رَجُلٌ يَسْعَى»: و آمد از دورترین نقطه مردی شتابان.</p>	۱
۹	<p>آیات و عبارات قرآنی زیر را معنا کنید.</p> <p>الف) «إِنَّ اللَّهَ كَانَ بِمَا تَعْمَلُونَ خَبِيرًا»: (.....)</p> <p>ب) «شَدِيدُ الْعِقَابِ ذِي الطُّولِ»: (.....)</p>	۲



آزمون نوبت دوم سال تحصیلی ۱۴۰۱-۱۴۰۲

نام و نام خانوادگی :

پایه هشتم دوره اول متوسطه

کلاس :

تاریخ : ۱۴۰۲/۰۲/۳۰

زمان آزمون : ۶۰ دقیقه

دبیر : جناب آقای لطیفی پور

نام درس : مطالعات اجتماعی

امضای دبیر		نمره آزمون :	
بارم	سوال	ردیف	
		الف	سوالات تستی ۳ نمره
۰/۵	۱- خلیفه عباسی به چه کسی لقب سلطان رکن الدین داد ؟ (الف) سلطان محمود (ب) سلطان مسعود (ج) طغرل (د) ملک شاه		
۰/۵	۲- آخرین ایلخان مغول چه کسی بود ؟ (الف) چنگیز (ب) سلطان محمود (ج) هلاکو (د) ابو سعید		
۰/۵	۳- قله اورست در کدام رشته کوه قرار دارد ؟ (الف) هیمالیا (ب) البرز (ج) سلیمان (د) اورال		
۰/۵	۴- در شرق فلات ایران کدام یک از ارتفاعات زیر قرار دارد ؟ (الف) زاگرس (ب) پامیر (ج) هندوکش (د) تیشن		
۰/۵	۵- طویل ترین رود اروپا چه نام دارد ؟ (الف) راین (ب) الب (ج) دانوب (د) لوار		
۰/۵	۶- در آمریکای مرکزی جزایر سرزمین های آتش فشانی و زمین لرزه اند . (الف) آلاباما (ب) آنتیل (ج) مرجانی (د) ماداگاسکار		
		ب	سوالات صحیح غلط ۳ نمره
۰/۵	۱- یکی از وظایف مهم وزیران تنظیم رابطه سلطان با خلیفه و دیگر فرمانروایان بود . صحیح <input type="checkbox"/> غلط <input type="checkbox"/>		
۰/۵	۲- گوهرشاد ، همسر تیمور از زنان نیکوکار بود که به عمران و آبادی توجه داشت . صحیح <input type="checkbox"/> غلط <input type="checkbox"/>		
۰/۵	۳- آسیا نه تنها وسیع ترین قاره جهان است بلکه از پر جمعیت ترین قاره هاست . صحیح <input type="checkbox"/> غلط <input type="checkbox"/>		
۰/۵	۴- حدود دو سوم گاز جهان و یک سوم نفت جهان در منطقه جنوب غرب آسیا قرار دارد . صحیح <input type="checkbox"/> غلط <input type="checkbox"/>		
۰/۵	۵- کناره های آفریقا صاف و بدون بریدگی است و برای ساخت بنادر مناسب نیست . صحیح <input type="checkbox"/> غلط <input type="checkbox"/>		
۰/۵	۶- بلندترین قله استرالیا با ارتفاع ۳۷۶۴ متر کوک نام دارد . صحیح <input type="checkbox"/> غلط <input type="checkbox"/>		
		ج	سوالات جای خالی ۳ نمره
۰/۵	۱- از اواخر قرن چهارم تا اوایل قرن هفتم هجری سه سلسله در ایران حکومت کردند .		
۰/۵	۲- مغولان نخست به چین حمله و شهر ثروتمند تسخیر و غارت کردند .		
۰/۵	۳- آسیا از طریق از آمریکای شمالی جدا می شود .		
۰/۵	۴- بیابان بزرگ عربستان تقریباً ۲/۵ برابر کشور وسعت دارد .		
۰/۵	۵- رشته کوه آلپ و پیرنه در منطقه اروپای قرار دارند .		
۰/۵	۶- اکثر مردم قاره آمریکای شمالی پیرو مذهب هستند .		

ردیف	سوال	بارم
۵	سوالات پاسخ کوتاه ۳ نمره	
۰/۵	۱- از مهم ترین مقام هایی که در عهد سلجوقیان وجود داشت چه مقامی بود ؟	
۰/۵	۲- یکی از کار های ارزشمند خواجه نصیرالدین توسی تشویق هلاکو به ساختن چه مکانی بود ؟	
۰/۵	۳- چند درصد مسلمانان جهان در قاره آسیا زندگی می کنند ؟	
۰/۵	۴- یکی از اهمیت های جزیره های جنوب کشورمان را بنویسید .	
۰/۵	۵- قاره آفریقا از نظر وسعت چندمین قاره جهان است ؟	
۰/۵	۶- یکی از بندر های مهم استرالیا را نام ببرید .	
هـ	سوالات پاسخ بلند ۸ نمره	
۱	چرا انسان نمی تواند نسبت به اتفاقات اطراف خود بی تفاوت باشد ؟	۱
۲	مالیات چیست ؟	۱
۳	رسانه را تعریف کنید .	۱
۴	سلجوقیان چگونه از قدرت کنار رفتند ؟	۱
۵	چرا سلطان جلال الدین در مقابله با مغولان موفقیت به دست نیاورد ؟	۱
۶	چرا شهر های پر جمعیتی در قاره آسیا وجود دارد ؟	۱
۷	مقیاس یک نقشه $\frac{1}{50000}$ است . اگر فاصله دو نقطه روی نقشه ۴ سانتی متر باشد ، فاصله ی این دو مکان بر روی زمین واقعی چند متر است ؟	۱
۸	دریاچه ها و آبشار های آفریقا چگونه به وجود آمده اند ؟	۱